

מדינת ישראל

משרד החינוך

סוג הבחינה: בגרות

מועד הבחינה: קיץ תשפ"ב, מועד ב

מספר השאלון: 035382

נספח: דפי נוסחאות ל-3 יח"ל

תרגום לערבית (2)

דولة إسرائيل

وزارة التربية والتعليم

نوع الامتحان: بچروت

מועד الامتحان: صيف 2022, الموعد "ب"

رقم النموذج: 035382

ملحق: لوائح قوانين لـ 3 وحدات تعليمية

ترجمة إلى العربية (2)

انتبهوا: في هذا الامتحان توجد تعليمات خاصة.
يجب الإجابة عن الأسئلة حسب التعليمات!

מתמטיקה

3 יחידות לימוד – שאלון שלישי

הוראות

- משך הבחינה: שתיים.
- מבנה השאלון ומפתח ההערבה:
בשאלון זה שש שאלות בנושאים:
אלגברה, חשבון דיפרנציאלי ואינטגרלי.
יש לענות על ארבע שאלות –
לכל שאלה 28 נקודות.
סך הנקודות לא יעלה על 100.
- חומר עזר מותר בשימוש:
 - מחשבון לא גרפי. אין להשתמש באפשרויות התכנות במחשבון שיש בו אפשרות תכנות. שימוש במחשבון גרפי או באפשרויות התכנות במחשבון עלול לגרום לפסילת הבחינה.
 - דפי נוסחאות (מצורפים).
- הוראות מיוחדות:
 - אין להעתיק את השאלה; יש לסמן את מספרה בלבד.
 - יש להתחיל כל שאלה בעמוד חדש. יש לרשום במחברת את שלבי הפתרון, גם כאשר החישובים מתבצעים בעזרת מחשבון. יש להסביר את כל הפעולות, כולל חישובים, בפירוט ובצורה ברורה ומסודרת. חוסר פירוט עלול לגרום לפגיעה בציון או לפסילת הבחינה.

الرياضيات

3 وحدات تعليمية – النموذج الثالث

تعليمات

- مدّة الامتحان: ساعتان.
- מבני النموذج وتوزيع الدرجات:
في هذا النموذج ستة أسئلة في الموضوعين:
الجبر، حساب التفاضل والتكامل.
يجب الإجابة عن أربعة أسئلة –
لكل سؤال 28 درجة.
مجموع الدرجات لن يزيد عن 100.
- موادّ مساعدة يُسمح استعمالها:
 - حاسبة غير بيانية. لا يُسمح استعمال إمكانيات البرمجة في الحاسبة التي توجد فيها إمكانيّة برمجة. استعمال الحاسبة البيانية أو إمكانيات البرمجة في الحاسبة قد يؤدي إلى إلغاء الامتحان.
 - لوائح قوانين (مرفقة).
- تعليمات خاصة:
 - لا تنسخوا السؤال؛ يجب كتابة رقمه فقط.
 - يجب بدء كلّ سؤال في صفحة جديدة. يجب كتابة مراحل الحل في الدفتر، حتى إذا أُجريت الحسابات بواسطة حاسبة. يجب تفسير جميع الخطوات، بما في ذلك الحسابات، بالتفصيل وبوضوح وبترتيب. عدم التفصيل قد يؤدي إلى خصم درجات أو إلى إلغاء الامتحان.

يجب الكتابة في دفتر الامتحان فقط. يجب كتابة "مسودة" في بداية كلّ صفحة تُستعمل مسودة.

كتابة أيّة مسودة على أوراق خارج دفتر الامتحان قد تسبب إلغاء الامتحان.

الأسئلة في هذا النموذج ترد بصيغة الجمع، ورغم ذلك يجب على كلّ طالبة وطالب الإجابة عنها بشكل فردي.

نتمنى لكم النجاح!

בהצלחה!

الأسئلة

- أجيبوا عن أربعة من الأسئلة 1-6 (لكل سؤال – 28 درجة).
إذا أجبتم عن أكثر من أربعة أسئلة، تُفحص فقط الإجابات الأربع الأولى التي في الدفتر.
انتبهوا: يجب تفسير جميع الخطوات، بما في ذلك الحسابات، بالتفصيل وبوضوح.
عدم التفصيل قد يؤدي إلى خصم درجات أو إلى إلغاء الامتحان.

الجبر

1. اشترت رنا من محلّ للمجوهرات خاتمًا واحدًا وإساورتين. سعر كلّ إسوارة متساوٍ.
الثمن الكليّ للخاتم وللإساورتين في محلّ المجوهرات هو 1,784 شيكلاً.
اشترت رنا كلّ إسوارة بتخفيض 15% من السعر الأصليّ، ومقابل الخاتم دفعت رنا سعره الأصليّ.
الثمن الكليّ للخاتم والإساورتين بعد التخفيض كان 1,595 شيكلاً.
أ. ما هو سعر الخاتم الواحد، وما هو سعر الإسوارة الواحدة قبل التخفيض (السعر الأصليّ)؟
اشترت سهى من موقع الإنترنت التابع لمحلّ المجوهرات نفس المجوهرات – خاتمًا وإساورتين.
اشترت سهى الخاتم بتخفيض 10% من سعره الأصليّ، وحصلت عند شراء الإساورتين على
تخفيض 25% من السعر الأصليّ على الإسوارة الثانية فقط.
ب. جدوا ما هو المبلغ الكليّ الذي دفعته سهى مقابل الخاتم والإساورتين في موقع الإنترنت.

2. في الشكل الرباعي $ABCD$ ، الضلع AB يعامد الضلع BC (انظروا الرسم).

معطى أن: $A(4, 1)$ ، $B(10, 3)$.

أ. (1) جدوا ميل الضلع AB .

(2) جدوا معادلة الضلع BC .

الرأس C يقع على المحور x .

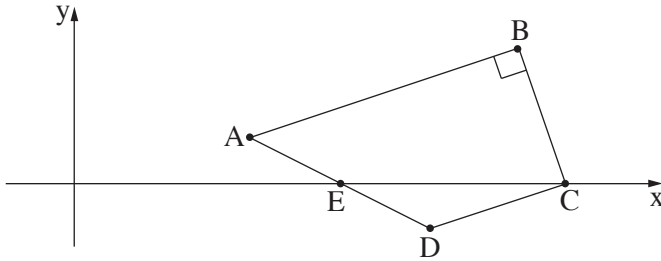
ب. جدوا إحداثيات الرأس C .

معطى أن: النقطة $E(6, 0)$ هي منتصف الضلع AD .

ج. جدوا إحداثيات الرأس D .

د. بينوا أن الضلع DC يعامد الضلع BC .

هـ. بينوا أن المثلث BCD هو مثلث متساوي الساقين.



3. الرسم الذي أمامكم يصف دائرة مركزها في النقطة $M(5, 6)$.

النقطة $A(3, 9)$ تقع على محيط الدائرة.

أ. (1) جدوا نصف قطر الدائرة.

(2) اكتبوا معادلة الدائرة.

AB هو قطر في الدائرة.

ب. جدوا إحداثيات النقطة B .

مرروا عبر النقطة A مماساً للدائرة (انظروا الرسم).

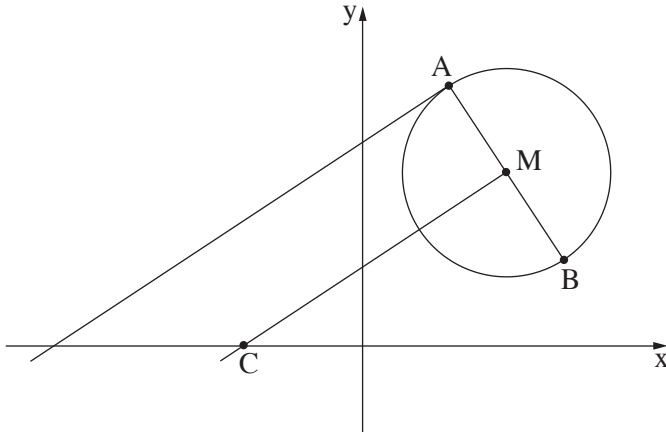
ج. جدوا ميل المماس.

يمررون عبر النقطة M مستقيماً يوازي المماس.

هذا المستقيم يقطع المحور x في النقطة C .

د. (1) جدوا معادلة المستقيم MC .

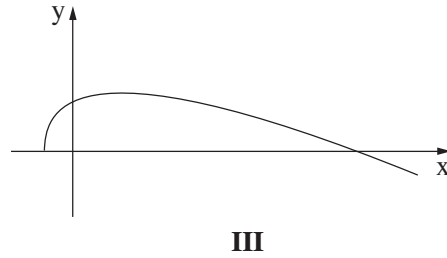
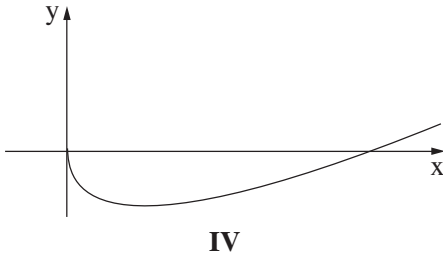
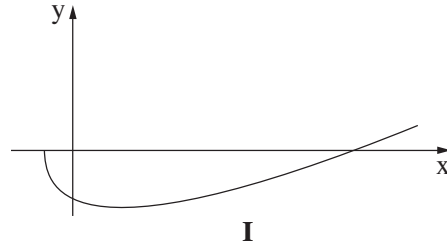
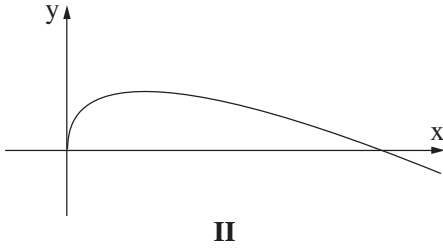
(2) جدوا مساحة المثلث BCM .

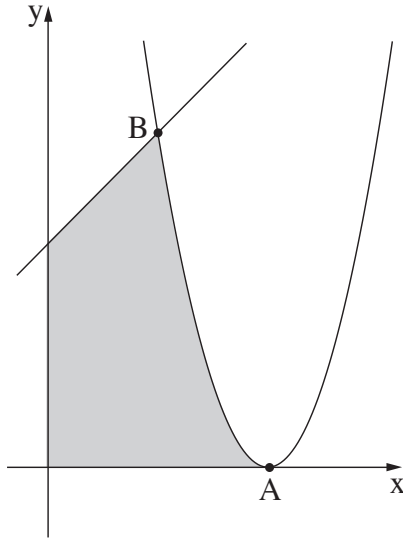


حساب التفاضل والتكامل

4. معطاة الدالة $f(x) = 0.5x - 6\sqrt{x}$.

- أ. جدوا مجال تعريف الدالة $f(x)$.
- ب. جدوا إحداثيات نقطة تقاطع الرسم البياني للدالة $f(x)$ مع المحور y .
- ج. جدوا إحداثيات النقطة القصوى الداخلية للدالة $f(x)$ ، وحددوا نوع هذه النقطة.
- د. أحد الرسوم البيانية IV-I التي في آخر السؤال يصف الرسم البياني للدالة $f(x)$. حددوا أيًا منها.
- هـ. أمامكم جملتان. حددوا بالنسبة لكل واحدة منهما هل هي صحيحة أم غير صحيحة. عللوا تحديديكم.
- (1) توجد نقطتان على الرسم البياني للدالة $f(x)$ ، قيمة y فيهما تساوي -12 .
- (2) توجد نقطتان على الرسم البياني للدالة $f(x)$ ، قيمة y فيهما تساوي 12 .





5.

מעגה הדאלה $f(x) = 2x^2 - 12x + 18$,

ומעגה המסעקמ הזכ מاعالعه $y = x + 3$.

הדאלה $f(x)$ עקע המכור x עה נקעה A .

הנקעה B הו إحدى نقات عاقع הדאלה $f(x)$ مع المسعقم،

كما هو موصوف في الرسم.

أ. (1) جدوا إحدائيات النקעה A .

(2) جدوا إحدائيات النكعه B .

ب. احسبوا المساحة الرمادية التي في الرسم:

المساحة المحصورة بين الرسم البياني للدالة $f(x)$

والمسعقم والمكوري.

6.

الرسم الذي أمامكم يصف الرسمين البيانيين للدالة $f(x) = -x^2 - x + 10$,

وللمسعقم $y = 2$.

النكعه A عع على الرسم البياني للدالة $f(x)$ في الربع الأول،

والنكعه B عع على المسعقم، عه النكعه A ، بحيث

القعه AB عوازي المكور y .

النقطان C و D ععان على المكور y ، بحيث يكون

الشكل الرباعي $ABCD$ مسعقياً، كما هو موصوف في الرسم.

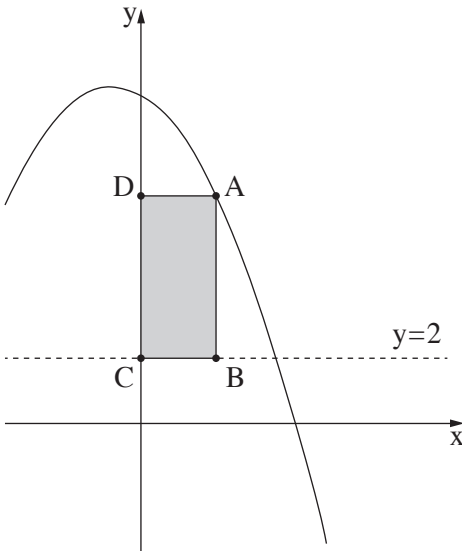
نرمز بـ x إلى الإحدائي x للنكعه A .

أ. (1) عبّروا بدلالة x عن الإحدائي y للنكعه A .

(2) عبّروا بدلالة x عن طول القعه AB .

ب. جدوا الإحدائي x للنكعه A ، الذي بالنسبة

له مساحة المسعقيل $ABCD$ هي أكبر ما يمكن.



בהצלחה! נעמני לכע הנכא!

זכוע היוצרים שמורה למודינע ישראל.

אין להעעק או לפרסם אלא ברשות משרד החינוך.

חقوق الطبع מחفوظة لدولة إسرائيل.

النسخ أو النشر ممنوعان إلا بإذن من وزارة التربية والتعليم.