

א. נסמן: x (שקלים) - מחירו של שעון.

$$\cdot \frac{100+60}{100} \cdot x = 1.6x \text{ מחירה של טבעת, הגבוה ב- } 60\% \text{ ממחירו של שעון הוא}$$

המחיר של 4 טבעות הוא 4,032 שקלים.

$$\cdot 4 \cdot 1.6x = 4032 \text{ המשוואה המתאימה היא:}$$

נפתור את המשוואה.

$$4 \cdot 1.6x = 4032$$

$$6.4x = 4032 \quad / : 6.4$$

$$\boxed{x = 630}$$

תשובה: מחירו של שעון אחד הוא 630 שקלים.

ב. נסמן: y - מספר הטבעות שנמכרו.

סך הכול נמכרו 22 פריטים (טבעות ושעונים), ולכן מספר השעונים הוא $22 - y$.

$$\cdot 1.6 \cdot 630 = 1008 \text{ שקלים} \text{ מחירה של טבעת אחת הוא}$$

סך הכול (שקלים)	מספר פריטים	מחיר לפריט (שקלים)	
$1008y$	y	1008	טבעות
$630(22 - y)$	$22 - y$	630	שעונים

נכום העסקה 17,262 שקלים סך הכול.

$$\cdot 1008y + 630(22 - y) = 17262 \text{ המשוואה המתאימה היא:}$$

נפתור את המשוואה.

$$1008y + 630(22 - y) = 17262$$

$$1008y + 13860 - 630y = 17262$$

$$378y = 3402 \quad / : 378$$

$$\boxed{y = 9} \rightarrow \boxed{22 - y = 13}$$

תשובה: בעסקה זו נמכרו 9 טבעות, ו-13 שעונים.

א. משוואת הישר BA היא $y = \frac{1}{3}x$, ולכן שיפועו $m_{BA} = \frac{1}{3}$.

$\angle BAC = 90^\circ$. לכן, על פי תנאי ניצבות: $m_{AC} \cdot m_{BA} = -1$,

ושיפוע הישר AC (הופכי לנגדי) הוא $m_{AC} = -3$ $\rightarrow m_{AC} \cdot \frac{1}{3} = -1$.

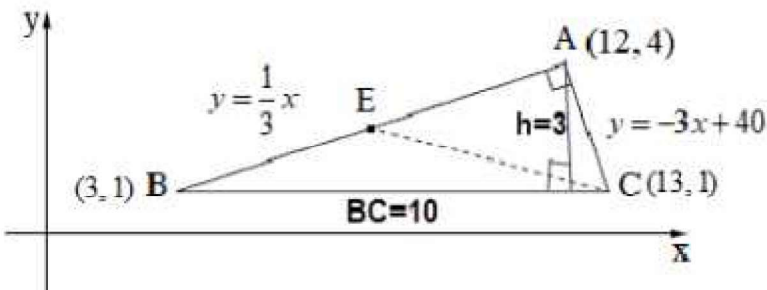
נמצא את משוואת הישר AC על פי הנקודה $A(12,4)$, והשיפוע (-3).

$$y - 4 = -3(x - 12)$$

$$y - 4 = -3x + 36$$

$$\boxed{y = -3x + 40}$$

תשובה: משוואת הישר AC היא $y = -3x + 40$.



ב. (1) שיעור ה- x של הקדקוד B הוא 3.

נציב $x_B = 3$ במשוואת הישר BA: $y = \frac{1}{3} \cdot 3 = 1$, ולכן $B(3, 1)$.

תשובה: $y_B = 1$.

(2) הצלע BC מקבילה לציר ה- x , ולכן $y_C = y_B = 1$.

נציב $y_B = 1$ במשוואת הישר AC:

$$1 = -3x + 40$$

$$3x = 39 \quad /:3$$

$$x = 13$$

ולכן $C(13, 1)$.

תשובה: $C(13, 1)$.

ג. הנקודה E היא אמצע הקטע BA, ולכן CE הוא תיכון לצלע BA ב- $\triangle ABC$.

התיכון מחלק את המשולש לשני משולשים שווים שטח.

נמצא את שטח המשולש ABC, תחילה.

$$h = 4 - 1 = 3, \quad BC = 13 - 3 = 10$$

$$S_{\triangle ABC} = \frac{BC \cdot h}{2} = \frac{10 \cdot 3}{2} = 15$$

$$S_{\triangle EAC} = \frac{15}{2} = 7.5 \text{ ש-}$$

תשובה: שטח המשולש EAC הוא 7.5 יח"ר.

א. משוואת המעגל היא $(x-4)^2 + (y-7)^2 = R^2$, ולכן מרכז המעגל הוא $M(4, 7)$.

(1) הנקודה $A(6, 3)$ נמצאת על המעגל.

נציב את שיעורי הנקודה במשוואת המעגל.

$$(6-4)^2 + (3-7)^2 = R^2$$

$$4+16 = R^2$$

$$20 = R^2$$

$$\boxed{R = \sqrt{20}}$$

תשובה: רדיוס המעגל הוא $\sqrt{20}$.

(2) משוואת המעגל היא $(x-4)^2 + (y-7)^2 = 20$

ב. בנקודות החיתוך עם ציר ה- y מתקיים $x=0$

נציב $x=0$ במשוואת המעגל.

$$(0-4)^2 + (y-7)^2 = 20$$

$$16 + (y-7)^2 = 20$$

$$(y-7)^2 = 4$$

$$y-7 = 2 \rightarrow y = 9 \rightarrow \boxed{D(0, 9)}$$

$$y-7 = -2 \rightarrow y = 5 \rightarrow \boxed{C(0, 5)}$$

תשובה: $D(0, 9)$, $C(0, 5)$

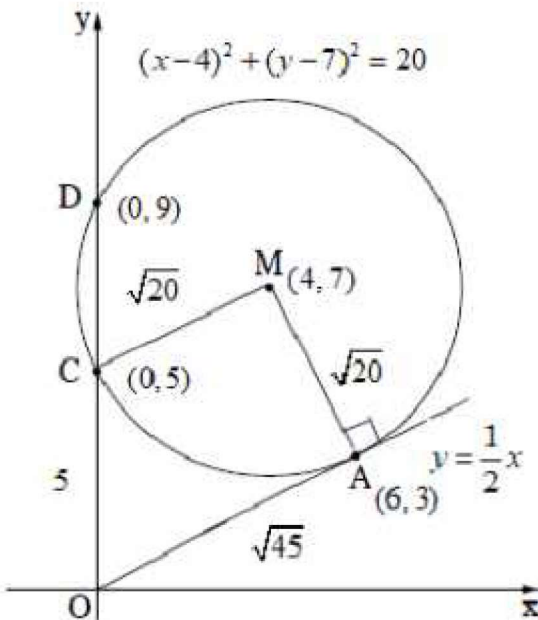
$$g. m_{AM} = \frac{3-7}{6-4} = \frac{-4}{2} = -2 \quad (1)$$

המשיק מאונך לרדיוס בנקודת ההשקה. לכן, על פי תנאי ניצבות, $m_{mashik} \cdot m_{AM} = -1$

$$m_{mashik} \cdot (-2) = -1 \rightarrow \boxed{m_{mashik} = \frac{1}{2}}$$

שיפוע המשיק (הופכי לנגדי) הוא

תשובה: שיפוע המשיק הוא $\frac{1}{2}$



(2) נמצא את משוואת המשיק על פי A(6,3), והשיפוע $\frac{1}{2}$.

$$y-3 = \frac{1}{2}(x-6)$$

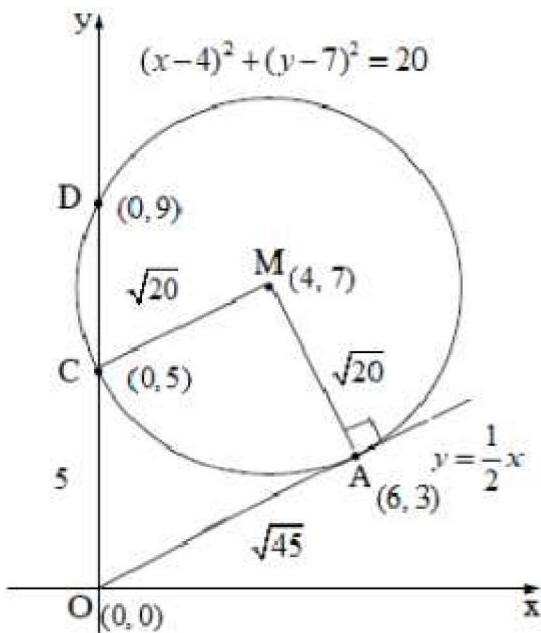
$$y-3 = \frac{1}{2}x-3$$

$$\boxed{y = \frac{1}{2}x}$$

תשובה: משוואת המשיק היא $y = \frac{1}{2}x$.

(3) נציב $x=0$ במשוואת המשיק. $y = \frac{1}{2} \cdot 0 = 0$ o.k.

תשובה: המשיק עובר בראשית הצירים (0,0).



ד. נחשב את היקף המרובע AMCO.

$$AM = MC = R = \sqrt{20}$$

$$OC = 5 - 0 = 5$$

$$AO = \sqrt{(6-0)^2 + (3-0)^2} = \sqrt{45}$$

וההיקף הוא: $\sqrt{20} + \sqrt{20} + 5 + \sqrt{45} = 20.65$

תשובה: היקף המרובע AMCO הוא 20.65.

א. נתונה הפונקציה $f(x) = 3\sqrt{x}$.

תחום ההגדרה הוא $x \geq 0$ כי הביטוי שבתוך השורש אינו יכול להיות שלילי.

תשובה: תחום הגדרה הוא $x \geq 0$.

ד. העבירו משיק לגרף הפונקציה, בנקודה ששיעור ה- x שלה הוא 4.

$$f'(x) = \frac{3}{2\sqrt{x}} \quad (1)$$

$$.m = f'(4) = \frac{3}{2\sqrt{4}} = \frac{3}{4} \quad \text{שיפוע המשיק הוא:}$$

תשובה: שיפוע המשיק הוא $\frac{3}{4}$.

(2) שיעורי נקודת ההשקה הם: $(4, 6) \rightarrow f(4) = 3\sqrt{4} = 6$.

$$y - 6 = \frac{3}{4}(x - 4)$$

$$y - 6 = \frac{3}{4}x - 3$$

$$\boxed{y = \frac{3}{4}x + 3}$$

תשובה: משוואת המשיק היא $y = \frac{3}{4}x + 3$.

ג. (1) נראה שלפונקציה אין נקודות קיצון פנימיות, כלומר שהנגזרת אינה מתאפסת.

$$f'(x) = \frac{3}{2\sqrt{x}}$$

$$\frac{3}{2\sqrt{x}} = 0 \quad / \cdot 2\sqrt{x}$$

$$3 = 0$$

מכאן שהנגזרת אינה מתאפסת, ואין נקודת קיצון פנימית.

תשובה: הוכח.

(2) תחום הגדרה הוא $x \geq 0$.

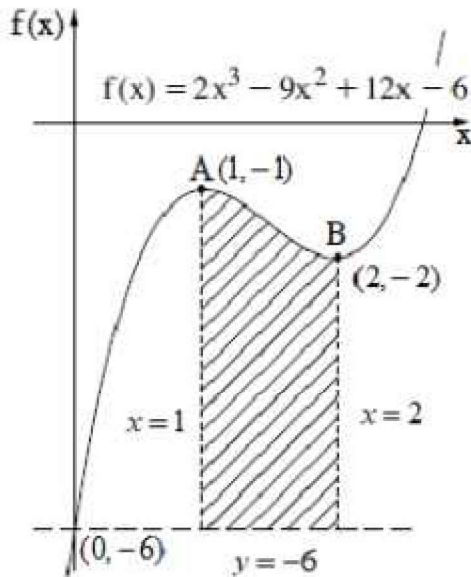
כיוון שהנגזרת אינה מתאפסת, הפונקציה רק עולה או רק יורדת.

ראינו שעבור $x = 4$, $f'(4) = \frac{3}{4} > 0$ - כלומר שהנגזרת חיובית והפונקציה רק עולה.

ומכאן שהפונקציה עולה לכל $x \geq 0$.

תשובה: עלייה: $x \geq 0$, ירידה: אף x .

בגרות עח מאי 18 מועד קיץ א שאלון 35382



א. נציב $x=0$ בפונקציה $f(x) = 2x^3 - 9x^2 + 12x - 6$

$$f(0) = 2 \cdot 0^3 - 9 \cdot 0^2 + 12 \cdot 0 - 6 = -6 \rightarrow (0, -6)$$

ישר המקביל לציר ה- x הוא פונקציה קבועה.

תשובה: משוואת הישר המקביל היא $y = -6$.

ב. נמצא את שיעורי נקודות הקיצון.

$$f'(x) = 6x^2 - 18x + 12$$

$$0 = 6x^2 - 18x + 12$$

$$x_{1,2} = \frac{-(-18) \pm \sqrt{18^2 - 4 \cdot 6 \cdot 12}}{2 \cdot 6}$$

$$x_{1,2} = \frac{18 \pm \sqrt{36}}{12}$$

$$x_{1,2} = \frac{18 \pm 6}{12}$$

$$x_1 = \frac{18+6}{12} = \frac{24}{12} = 2 \rightarrow f(2) = 2 \cdot 2^3 - 9 \cdot 2^2 + 12 \cdot 2 - 6 = -2 \rightarrow \boxed{B(2, -2)}$$

$$x_2 = \frac{18-6}{12} = \frac{12}{12} = 1 \rightarrow f(1) = 2 \cdot 1^3 - 9 \cdot 1^2 + 12 \cdot 1 - 6 = -1 \rightarrow \boxed{A(1, -1)}$$

תשובה: $A(1, -1)$, $B(2, -2)$.

ד. נחשב את השטח המקווקו.

הפרש פונקציות:

$$2x^3 - 9x^2 + 12x - 6 - (-6) = 2x^3 - 9x^2 + 12x - 6 + 6 = 2x^3 - 9x^2 + 12x$$

S	
$f(x) = 2x^3 - 9x^2 + 12x - 6$	פונקציה עליונה
$y = -6$	פונקציה תחתונה
$x = 2$	x גדול (ימני)
$x = 1$	x קטן (שמאלי)

$$S = \int_1^2 (2x^3 - 9x^2 + 12x) dx$$

$$S = \left[\frac{2x^4}{4} - \frac{9x^3}{3} + \frac{12x^2}{2} \right]_1^2$$

$$x=2 \quad \frac{2 \cdot 2^4}{4} - \frac{9 \cdot 2^3}{3} + \frac{12 \cdot 2^2}{2} = 8$$

$$x=1 \quad \frac{2 \cdot 1^4}{4} - \frac{9 \cdot 1^3}{3} + \frac{12 \cdot 1^2}{2} = 3.5$$

$$S = 8 - (3.5)$$

$$\boxed{S = 4.5}$$

תשובה: השטח המקווקו הוא 4.5 יח"ר.

א. נתון מלבן ABCD, ששטחו 25.

$$\text{נסמן } AB = x$$

$$S_{ABCD} = AB \cdot AD$$

$$25 = x \cdot AD \quad /: x$$

$$\boxed{\frac{25}{x} = AD}$$

$$\text{תשובה: } AD = \frac{25}{x}$$

ב. (1) נביע באמצעות x את היקף המלבן ALKD.

שתי צלעות הן באורך $x+2$, ושתי צלעות הן באורך $\frac{25}{x}$.

$$\text{היקף המלבן: } 2(x+2) + 2 \cdot \frac{25}{x} = 2x + 4 + \frac{50}{x}$$

תשובה: היקף המלבן ALKD הוא $2x + 4 + \frac{50}{x}$.

(2) הפונקציה שיש להביא לאינ'אום היא היקף המלבן ALKD.

$$f(x) = 2x + 4 + \frac{50}{x}$$

נמצא נקודת קיצון.

$$\boxed{f'(x) = 2 - \frac{50}{x^2}}$$

$$0 = 2 - \frac{50}{x^2} \quad / \cdot x^2$$

$$0 = 2x^2 - 50$$

$$50 = 2x^2 \quad /: 2$$

$$25 = x^2$$

$$\boxed{x = 5} \quad \leftarrow x > 0$$

נבנה טבלה לזיהוי סוג הקיצון (תחום הגדרה $x > 0$). $f'(4) = 2 - \frac{50}{4^2} < 0$, $f'(6) = 2 - \frac{50}{6^2} > 0$.

0	4	5	6	x
	-	0	+	y'
	↘	Min	↗	מסקנה

תשובה: $AB = 5$, עבורו היקף המלבן ALKD הוא מינימלי.