

א. נסמן ב- x (קמ"ש) את מהירותו של אהוד כשיצא מתל אביב (לפני המנוחה).

$$\text{בהתאם } 1.2x \text{ היא מהירותו של אהוד לאחר המנוחה, } \frac{100+20}{100} \cdot x = 1.2x,$$

ומהירותה של תמר $x+3$.

כאשר נפגשו, אהוד ותמר, המרחק שעבר אהוד היה 30 ק"מ והמרחק שעברה תמר היה 40 ק"מ $= 70 - 30$.

$$s = vt \text{ - המרחק (s) שווה למהירות (v) כפול זמן (t)}$$

נציב בטבלה המתאימה:

דרך-מרחק - s ק"מ	מהירות - v קמ"ש	זמן - t שעות		
2x	x	2	התחלה	אהוד
-	-	0.5	מנוחה	
30-2x	1.2x	$\frac{30-2x}{1.2x}$	המשך עד הפגישה	
40	x+3	$\frac{40}{x+3}$	עד לפגישה	תמר

תמר הלכה עד הפגישה 2.5 שעות, פחות מהזמן שאהוד הלך (כולל זמן המנוחה).

$$\text{המשוואה המתאימה היא: } \frac{40}{x+3} + 2.5 = 2 + 0.5 + \frac{30-2x}{1.2x}$$

נפתור את המשוואה:

$$\frac{40}{x+3} + 2.5 = 2 + 0.5 + \frac{30-2x}{1.2x}$$

$$\frac{40}{x+3} = \frac{30-2x}{1.2x}$$

$$48x = (x+3)(30-2x)$$

$$2x^2 + 24x - 90 = 0$$

$$\boxed{x=3} \text{ o.k. } \quad \cancel{x=-30} \quad \leftarrow x > 0$$

תשובה: מהירותו של אהוד כשיצא מתל אביב (לפני המנוחה) הייתה 3 קמ"ש.

ב. תמר הלכה 40 ק"מ, במהירות של 6 קמ"ש, כלומר ב- $\frac{40}{6} = 6\frac{2}{3}$ ק"מ, 6 שעות ו- 40 דקות.

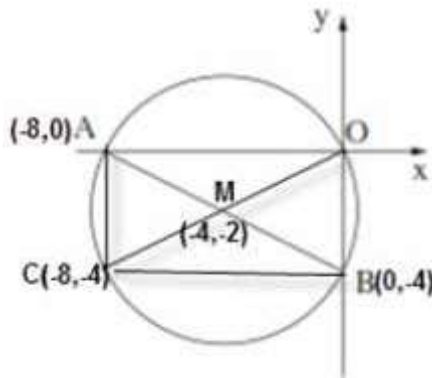
היא יצאה מאשקלון לכיוון תל-אביב בשעה 9:30, ולכן נפגשה עם אהוד בשעה 16:10.

תשובה: אהוד ותמר נפגשו בשעה 16:10.

א. כיוון שהמעגל עובר בראשית הצירים, הרי ש- $\sphericalangle AOB = 90^\circ$ ולכן AB קוטר, כי נשען על זווית היקפית ישרה. תשובה: כן, AB קוטר.

ב. נמצא את שיעורי מרכז המעגל, על פי נוסחת אמצע קטע AB.

$$\left. \begin{aligned} x_M &= \frac{-8+0}{2} = \frac{-8}{2} = -4 \\ y_M &= \frac{0+(-4)}{2} = \frac{-4}{2} = -2 \end{aligned} \right\} M(-4, -2)$$



נמצא את רדיוס המעגל, על פי נוסחת מרחק בין שתי נקודות.

$$R = d_{MO} = \sqrt{(-4-0)^2 + (-2-0)^2} = \sqrt{20}$$

תשובה: משוואת המעגל היא: $(x+4)^2 + (y+2)^2 = 20$

ג. (1) שטח $\Delta BOC = 16$

כיוון שהצלע BO מונחת על ציר ה-y, הרי שהגובה לצלע זו יהיה מאונך לציר ה-y.

$$\begin{aligned} 16 &= \frac{BO \cdot h}{2} \\ 32 &= 4h \\ h &= 8 \end{aligned}$$

קבלנו שאורך הגובה שווה לאורך הצלע AO, שגם מאונכת ל-BO, ולכן $x_C = x_A = -8$

(כל נקודה אחרת על המעגל, ברביע השלישי, תהייה במרחק גדול יותר, או קטן יותר, מהצלע BO).

תשובה: $x_C = -8$

(2) מכאן גם ש-BC מקביל לציר ה-x, ו- $y_C = y_B = -4$

ניתן גם להציב $x_C = -8$ במשוואת המעגל ולקבל את $y_A = 0$ ו- $y_C = -4$

תשובה: $y_C = -4$

ד. BM הוא תיכון לצלע OC ב- ΔBOC

התיכון מחלק את המשולש לשני משולשים שווי שטח, ולכן $S_{\Delta BMC} = \frac{16}{2} = 8$

תשובה: $S_{\Delta BMC} = 8$

א. נסמן ב- p את ההסתברות שתלמיד שנבחר באקראי הוא תושב העיר.

$$\text{בהתאם } p^3 = 0.512, \text{ ו- } p = 0.8.$$

תשובה: ההסתברות שתלמיד שנבחר באקראי, מבין תלמידי בית הספר, הוא תושב העיר - היא 0.8.

ב. יש למצוא את ההסתברות שבדיוק 3 מתוך 4 תלמידים שנבחרו, הם תושבי העיר.

זו התפלגות בינומית, כאשר $n = 4$, $p = 0.8$, $k = 3$.

נחשב באמצעות נוסחת ברנולי $P_n(k) = \binom{n}{k} (p)^k (1-p)^{n-k}$,

$$P_4(3) = \binom{4}{3} (0.8)^3 (1-0.8)^{4-3}$$

$$P_4(3) = \frac{4!}{4!(4-3)!} \cdot 0.8^3 \cdot 0.2^1$$

$$P_4(3) = 4 \cdot 0.8^3 \cdot 0.2^1$$

$$P_4(3) = 0.4096$$

תשובה: ההסתברות היא 0.4096.

ג. נגדיר את המאורעות הבאים:

A - תושבי העיר
B - בעלי טלפון נייד
 \bar{A} - לא תושבי העיר
 \bar{B} - אין להם טלפון נייד

נתונים ומשמעויות מיידיות

$$P(A) = 0.8 \rightarrow P(\bar{A}) = 0.2$$
$$P(\bar{B}) = 0.18 \rightarrow P(B) = 0.82$$
$$P(\bar{B} / A) = \frac{1}{8} \rightarrow P(B / A) = \frac{7}{8}$$
$$P(\bar{B} / A) = \frac{P(\bar{B} \cap A)}{P(A)}$$
$$\frac{1}{8} = \frac{P(\bar{B} \cap A)}{0.8}$$
$$P(\bar{B} \cap A) = 0.1$$

נציב בטבלה ונשלים נתונים.

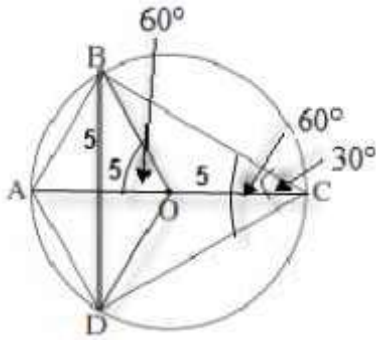
	\bar{A} לא תושבי העיר	A תושבי העיר	
0.82	0.12	0.7	B בעלי טלפון נייד
0.18	0.08	0.1	\bar{B} ללא טלפון נייד
1	0.2	0.8	

$$P(A / \bar{B}) = \frac{P(A \cap \bar{B})}{P(\bar{B})} = \frac{0.1}{0.18} = \frac{5}{9}$$

תשובה: ההסתברות לבחור תושב העיר, מבין התלמידים שאין להם טלפון נייד, היא $\frac{5}{9}$.

נתונים

בגרות עז ינואר 17 מועד חורף שאלון 35804



1. ABCD דלתון חסום במעגל, $AB = AD$, $BC = DC$.

2. $\angle BCD = 60^\circ$. 3. O מרכז המעגל.

עבור ג. 4. $AB = 5$ ס"מ.

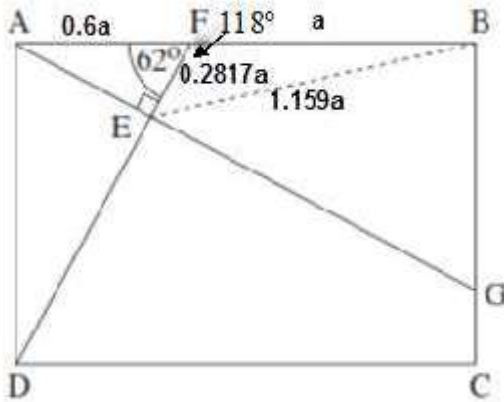
צ"ל: א. (1) $\angle ABC = \angle ADC = 90^\circ$ (2) $\triangle ABO$ שווה צלעות ב. ABOD מעוין.

ג. BC. ד. $\triangle ABO \sim \triangle BCD$.

נימוק	טענה	הסבר	הסבר
נתון	ABCD דלתון חסום במעגל	5	1
זוויות צד שוות בדלתון	$\angle ABC = \angle ADC$	6	5
סכום זוויות נגדיות במרובע חסום במעגל	$\angle ABC + \angle ADC = 180^\circ$	7	5
חישוב	$\angle ABC = \angle ADC = 90^\circ$	8	7, 6
מ.ש.ל. א (1)			
נתון	$\angle BCD = 60^\circ$	9	2
אלכסון ראשי בדלתון חוצה את זוויות הראש	$\angle BCA = 30^\circ$	10	9, 5
נתון, והקוטר נשען על זווית היקפית ישרה	O מרכז המעגל ו- AC קוטר	11	3, 8
זווית מרכזית כפולה מזווית היקפית שנשענת על אותה הקשת	$\angle BOA = 60^\circ$	12	11, 9
רדיוסים שווים במעגל	$OB = OA$	13	11
משולש שווה שוקיים עם זווית 60°	$\triangle ABO$ משולש שווה צלעות	14	13, 12
מ.ש.ל. א (2)			
רדיוסים שווים במעגל	$OB = OA$	15	11
נתון	$AB = AD$	16	1
כלל המעבר	$OB = AB = AD = OD$	17	16, 15, 13
מרובע עם ארבע צלעות שוות	ABOD מעוין	18	17
מ.ש.ל. ב			
נתון	$AB = 5$ ס"מ	19	4
$\triangle ABC$ - במשולש ישר זווית, ניצב מול זווית בת 30° שווה למחצית היתר (או כל רדיוס 5 ס"מ)	$AC = 10$ ס"מ.	20	19, 10, 8
משפט פיתגורס $\triangle ABC$	$BC = \sqrt{75}$ ס"מ	21	20, 19, 8
מ.ש.ל. ג			

נימוק	טענה		הסבר
על קשת שווה \widehat{BC} נשענות זוויות היקפיות שוות	$\sphericalangle BAC = \sphericalangle BDC$	22	
כלל המעבר	$\sphericalangle BOA = \sphericalangle BCD$	23	12,9
משפט דמיון זווית זווית	$\triangle ABO \sim \triangle BCD$	24	23,22
מ.ש.ל. ד			

בגרות עז ינואר 17 מועד חורף שאלון 35804



א. (1) נביע את EF באמצעות a .

$\triangle AFE$

$$\cos 62^\circ = \frac{EF}{AF}$$

$$0.6a \cos 62^\circ = EF$$

$$\boxed{EF = 0.2817a}$$

תשובה: $EF = 0.2817a$.

א. (2) נביע את BE באמצעות a .

$\sphericalangle BFE = 118^\circ$ (זוויות צמודות משלימות ל- 180°).

$\triangle FBE$ לפי משפט הקוסינוסים

$$(BE)^2 = (EF)^2 + (BF)^2 - 2 \cdot EF \cdot BF \cdot \cos \sphericalangle BFE$$

$$(BE)^2 = (0.2817a)^2 + a^2 - 2 \cdot 0.2817a \cdot a \cdot \cos 118^\circ$$

$$(BE)^2 = 1.3438a^2$$

$$\boxed{BE = 1.159a}$$

תשובה: $BE = 1.159a$.

ב. נתון $5 \text{ ס"מ} = a$, ובהתאם $BE = 5.796 \text{ ס"מ}$, $EF = 1.4085 \text{ ס"מ}$.

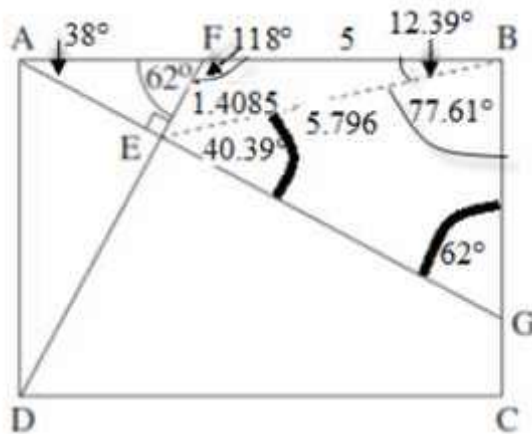
(1) $\triangle FBE$ לפי משפט הסינוסים

$$\frac{EF}{\sin \angle EBA} = \frac{BE}{\sin 118^\circ}$$

$$\frac{1.4085 \sin 118^\circ}{5.796} = \sin \angle EBA$$

$$\boxed{\angle EBA = 12.39^\circ}$$

תשובה: $\angle EBA = 12.39^\circ$.



(2) $\angle GBE = 77.61^\circ$ (הפרש זוויות)

($\triangle AEF$ 180° סכום זוויות) $\angle BAG = 38^\circ$

($\triangle BAG$ 180° סכום זוויות) $\angle BGE = 62^\circ$

($\triangle EBG$ 180° סכום זוויות) $\angle BEG = 40.39^\circ$

$$S_{\triangle EBG} = \frac{(EB)^2 \cdot \sin \angle BEG \cdot \sin \angle GBE}{2 \cdot \sin \angle BGE}$$

$$S_{\triangle EBG} = \frac{5.796^2 \cdot \sin 40.39^\circ \cdot \sin 77.61^\circ}{2 \cdot \sin 62^\circ}$$

$$\boxed{S_{\triangle EBG} = 12.04 \text{ cm}^2}$$

תשובה: $12.04 \text{ סמ"ר} = S_{\triangle EBG}$.

א. נתונה הפונקציה $f(x) = \frac{x-2}{2x+4}$.

$$2x+4 \neq 0 \rightarrow x \neq -2 \quad (1)$$

תשובה: תחום ההגדרה: $x \neq -2$.

(2) נמצא נקודות חיתוך של גרף הפונקציה עם הצירים.

$$f(0) = \frac{0-2}{2 \cdot 0+4} = \frac{-2}{4} = -0.5 \rightarrow \boxed{(0, -0.5)} \text{ - ציר } y : x = 0$$

$$0 = x-2 \rightarrow x = 2 \rightarrow \boxed{(2, 0)} \text{ - ציר } x : y = 0$$

תשובה: $(0, -0.5)$, $(2, 0)$.

(3) נמצא אסימפטוטות המקבילות לצירים.

אסימפטוטות מקבילה לציר ה- y הישר $x = -2$ (מספר זה מאפס מכנה ולא מונה).

אסימפטוטה מקבילה לציר ה- x : $y = 0.5$ (חזקת מונה (1) שווה לחזקת מכנה (1)).

תשובה: $x = -2$, $y = 0.5$.

(4) נמצא את תחומי העלייה והירידה של הפונקציה, ונקודות קיצון (אם יש כאלה).

$$f'(x) = \frac{2x+4-2(x-2)}{(2x+4)^2}$$

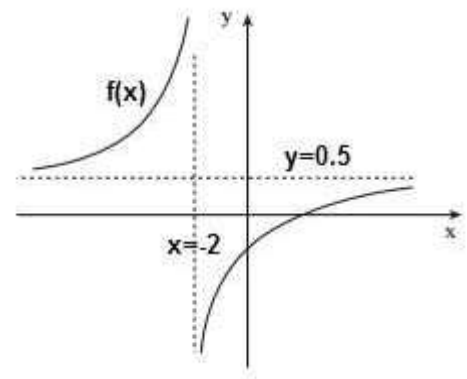
$$f'(x) = \frac{2x+4-2x+4}{(2x+4)^2}$$

$$\boxed{f'(x) = \frac{8}{(2x+4)^2}}$$

הנגזרת חיובית בתחום ההגדרה, ולכן אין נקודות קיצון.

תשובה: עלייה: $x > -2$ או $x < -2$, ירידה: אף x .

(5) הסקיצה המתאימה.



ב. נמצא את שיפוע המשיק בנקודה $(2, 0)$.

$$f'(0) = \frac{8}{(2 \cdot 2 + 4)^2} = \frac{1}{8}$$

לישרים מקבילים שיפועים שווים.

נשווה את השיפוע לנגזרת, על-מנת למצוא את שיעור ה- x של הנקודה P.

$$\frac{1}{8} = \frac{8}{(2x+4)^2}$$

$$(2x+4)^2 = 64$$

$$2x+4 = 8 \quad 2x+4 = -8$$

$$x = 2 \quad x = -6$$

$$y = \frac{-6-2}{2 \cdot (-6)+4} = 1 \rightarrow \boxed{P(-6,1)}$$

תשובה: $P(-6,1)$.

ג. $g(x) = f(x) + C$

זו הזזה אנכית של $f(x)$ ב- C יחידות.

נתון כי האסימפטוטה האופקית של $g(x)$ היא $y = 0$,

כלומר תזוזה של 0.5 יחידות כלפי מטה, מהאסימפטוטה האופקית של $f(x)$ שהיא $y = 0.5$.

תשובה: $C = -0.5$.

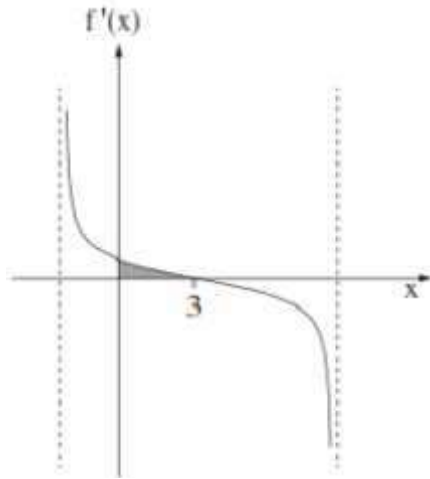
א. נתונה הפונקציה $f(x) = \sqrt{-x^2 + bx + 16}$, b פרמטר.

(1) על פי גרף הנגזרת, הנתון, עבור $x = 3$,

הנגזרת עוברת מחיוביות לשליליות,

ולכן הפונקציה עוברת מעלייה לירידה.

תשובה: $x = 3$ (מקסימום).



(2) נציב $x = 3$ בנגזרת ונשווה ל-0.

$$f'(x) = \frac{-2x + b}{2\sqrt{-x^2 + bx + 16}}$$

$$0 = -2 \cdot 3 + b$$

$$\boxed{b = 6}$$

תשובה: $b = 6$.

ב. $f(x) = \sqrt{-x^2 + 6x + 16}$.

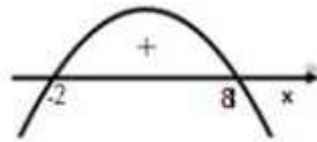
ביטוי שבתוך השורש צריך להיות אי-שלילי.

$$-x^2 + 6x + 16 \geq 0$$

$$x = 8, x = -2$$

מתקבל ביטוי שהגרף שלו הוא פרבולה הפוכה (בוכה).

תשובה: תחום ההגדרה: $-2 \leq x \leq 8$.



ג. נקודות קצה: $(-2, 0)$, $(8, 0)$.

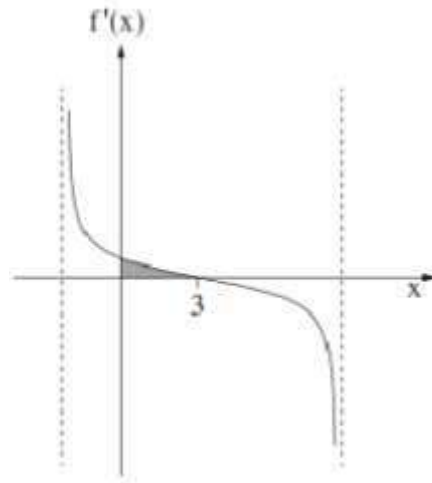
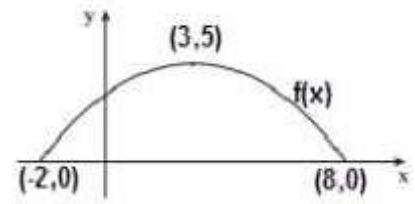
על פי סעיף א (1) מתקיים מקסימום עבור $x = 3$.

$$x = 3 \rightarrow y = \sqrt{-3^2 + 6 \cdot 3 + 16} = 5 \rightarrow (3, 5)$$

ועל פי ערכי הפונקציה בקצוות ניתן לקבוע את סוגי הקיצון.

תשובה: $(3, 5)$ מקסימום, $(8, 0)$, $(-2, 0)$ מינימום.

ד. הסקיצה המתאימה.



ה. נמצא את השטח המבוקש.

$$S = \int_0^3 f'(x) dx = f(x) \Big|_0^3$$

$$S = f(3) - f(0)$$

$$S = 5 - (\sqrt{-0^2 + 6 \cdot 0 + 16})$$

$$S = 5 - 4$$

$$\boxed{S = 1}$$

תשובה: השטח הוא 1 יח"ר.

א. נסמן $FC = x$.

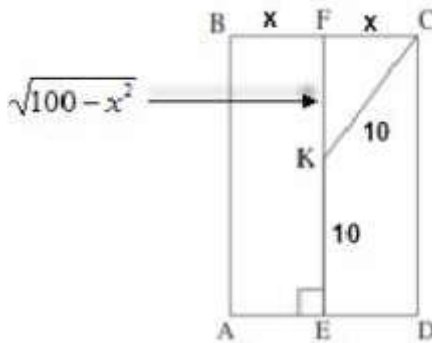
נחשב את FK באמצעות משפט פיתגורס ב- $\triangle FKC$.

$$(KC)^2 + x^2 = 10^2$$

$$(KC)^2 = 100 - x^2$$

$$KC = \sqrt{100 - x^2}$$

תשובה: $KC = \sqrt{100 - x^2}$.



ב. הפונקציה שיש להביא למקסימום היא היקף המלבן $ABCD$.

, כי נתון שהנקודה F היא אמצע הצלע. $BC = 2x$

ולכן גם $FE = 10 + \sqrt{100 - x^2}$ $CD = 10 + \sqrt{100 - x^2}$ (כי $FCDE$ גם מלבן)

$$P = 2 \cdot 2x + 2 \cdot (10 + \sqrt{100 - x^2})$$

$$P = 4x + 20 + 2\sqrt{100 - x^2}$$

$$P' = 4 - \frac{2x}{\sqrt{100 - x^2}}$$

$$P' = \frac{4\sqrt{100 - x^2} - 2x}{\sqrt{100 - x^2}}$$

$$0 = 4\sqrt{100 - x^2} - 2x$$

$$x = 2\sqrt{100 - x^2} \quad ()^2$$

$$x^2 = 4(100 - x^2)$$

$$5x^2 = 400$$

$$x^2 = 80$$

$$x = \sqrt{80}$$

$$\text{test: } \sqrt{80} = 2\sqrt{100 - \sqrt{80}^2} \rightarrow \sqrt{80} = 2\sqrt{20} \rightarrow \sqrt{80} = \sqrt{80} \quad o.k.$$

$$P'(8) = \frac{4\sqrt{100 - 8^2} - 2 \cdot 8}{+} = \frac{8}{+} > 0$$

$$P'(9) = \frac{4\sqrt{100 - 9^2} - 2 \cdot 9}{+} = \frac{-0.56}{+} < 0$$

$x = \sqrt{80} \quad \text{Max}$

תשובה: $BC = 2\sqrt{80}$, עבורו היקף המלבן $ABCD$ מקסימלי.