

א. נתונה סדרה הנדסית אין-סופית, נסמנה a_n שהמנה שלה היא $\frac{1}{4}$, וסכומה $9\frac{1}{3}$.

מכיוון ש- $-1 < q < 1$, הסדרה מתכנסת וסכומה נתון על פי הנוסחה $S = \frac{a_1}{1-q}$.

$$9\frac{1}{3} = \frac{a_1}{1 - \frac{1}{4}}$$

$$9\frac{1}{3} \cdot \frac{3}{4} = a_1$$

$$\boxed{a_1 = 7}$$

תשובה: $a_1 = 7$.

ב. בין כל שני איברים סמוכים הוסיפו איבר חדש, כך שהתקבלה סדרה הנדסית חדשה.

נסמן את הסדרה b_n , כך ש- $b_n > 0$ (כי כל איבריה חיוביים), ומנתה בהתאם $q_b > 0$.

מכאן ש- $b_1 = a_1$, ו- $b_3 = a_2$.

$$b_1 q_b^2 = a_1 q_a$$

$$b_1 q_b^2 = b_1 \cdot \frac{1}{4} \quad /: b_1 \neq 0$$

$$q_b^2 = \frac{1}{4}$$

$$\boxed{q_b = \frac{1}{2}} \quad \leftarrow q_b > 0$$

תשובה: מנת הסדרה החדשה היא $\frac{1}{2}$.

ג. נבדוק את שתי הטענות.

$$(I) \quad b_5 = a_{10} - \text{הטענה אינה נכונה, למעשה } b_5 = a_3, \text{ או } b_{19} = a_{10}.$$

כיוון שהכניסו איבר בין כל שני איברים בסדרה המקורית, בהכרח מיקום של איברים זהים (למעט הראשון), יהיה גדול יותר בסדרה החדשה.

$$(II) \quad S_{even\ b} = \frac{1}{2} S_a$$

מקומות זוגיים בסדרה b_n	a_n	
$b_2 = b_1 q_b = 7 \cdot \frac{1}{2} = 3.5$	$a_1 = 7$	A_1
$\frac{b_{n+2}}{b_n} = \frac{b_n q_b^2}{a_n} = q_b^2 = \left(\frac{1}{2}\right)^2 = \frac{1}{4}$	$\frac{1}{4}$	Q
אינסוף	אינסוף	N
$S_b = \frac{3.5}{1 - \frac{1}{4}} = 4\frac{2}{3}$	$S_a = 9\frac{1}{3}$ (נתון)	S

מתקבל ש- $S_{even\ b} = \frac{1}{2} S_a$ ולכן טענה זו נכונה.

א. בסיס המנסרה הוא משולש ישר זווית ושווה שוקיים, $AB = BC$, שבו אורך היתר $AC = 4\sqrt{2}$.

הזווית שבין אלכסון הפאה $BCC'B'$ ובין בסיס המנסרה היא $\angle C'BC$.

משפט פיתגורס $\triangle ABC$

$$(AC)^2 = (AB)^2 + (BC)^2$$

$$(4\sqrt{2})^2 = 2(BC)^2$$

$$16 = (BC)^2$$

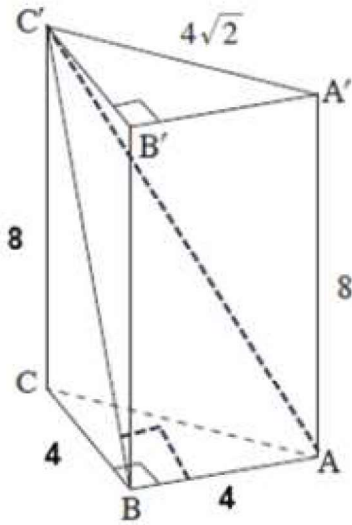
$$\boxed{BC = AB = 4}$$

$\triangle C'BC'$

$$\tan \angle C'BC = \frac{C'C}{BC} = \frac{8}{4}$$

$$\boxed{\angle C'BC = 63.43^\circ}$$

תשובה: גודל הזווית הוא 63.43° .



ב. $\angle ABC' = 90^\circ$ (AB מאונך לפאה $BCC'B'$ כי המנסרה ישרה וכי $AB \perp BC$).

משפט פיתגורס $\triangle BCC'$

$$(BC')^2 = (BC)^2 + (CC')^2$$

$$(BC')^2 = 4^2 + 8^2 = 80$$

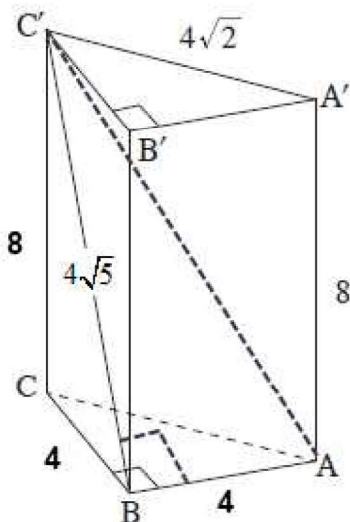
$$\boxed{BC' = 4\sqrt{5}}$$

$\triangle AC'B$

$$\tan \angle AC'B = \frac{AB}{BC'} = \frac{4}{4\sqrt{5}}$$

$$\boxed{\angle AC'B = 24.09^\circ}$$

תשובה: $\angle AC'B = 24.09^\circ$.



ג. נחשב את שטח המשולש $AC'B$, שטחו של משולש ישר זווית.

$$S_{\triangle AC'B} = \frac{AB \cdot BC'}{2} = \frac{4 \cdot 4\sqrt{5}}{2} = 8\sqrt{5}$$

$$S_{\triangle AC'B} = 8\sqrt{5} \quad \text{תשובה:}$$

ד. כיוון ש- $AB = BC$, הרי ששתי הפאות שעליהן חופפות, ולכן $BA' = BC' = 4\sqrt{5}$.

$$BD = 4 : 2 = 2$$

$$\angle CBA' = 90^\circ$$

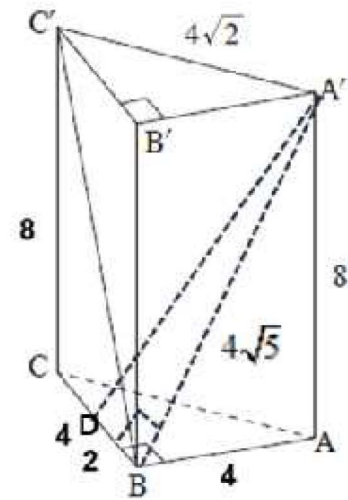
משפט פיתגורס $\triangle BCA'$

$$(A'D)^2 = (BD)^2 + (BA')^2$$

$$(A'D)^2 = 2^2 + (4\sqrt{5})^2$$

$$\boxed{A'D = 2\sqrt{21}}$$

תשובה: $A'D = 2\sqrt{21}$.



א. נתונה הפונקציה $f(x) = \sin 2x$, המוגדרת בתחום $0 \leq x \leq \pi$.

(1) בנקודת החיתוך עם ציר ה- y מתקיים $x = 0$: $(0, 0)$ → $f(0) = \sin(2 \cdot 0) = 0$

בנקודת החיתוך עם ציר ה- x מתקיים $y = 0$:

$$\sin 2x = 0 = \sin 0$$

$$2x = 0 + 2\pi k \quad 2x = \pi + 2\pi k$$

$$x = \pi k \quad x = \frac{\pi}{2} + \pi k$$

הפתרונות בתחום הם $x = 0, x = \frac{\pi}{2}, x = \pi$

תשובה: $(0, 0), (\frac{\pi}{2}, 0), (\pi, 0)$.

(2) נמצא את שיעורי נקודות הקיצון של הפונקציה ואת סוגן.

נקודות קצה: $(0, 0), (\pi, 0)$.

(מומלץ להתחיל עם נקודות קצה, אם קיימות, שתהיינה גם נקודות קיצון.)

$$f'(x) = 2 \cos 2x$$

$$0 = \cos 2x = \cos \frac{\pi}{2}$$

$$2x = \frac{\pi}{2} + 2\pi k \quad 2x = -\frac{\pi}{2} + 2\pi k$$

$$x = \frac{\pi}{4} + \pi k \quad x = -\frac{\pi}{4} + \pi k$$

$$k = 0: \left(\frac{\pi}{4}, 1\right) \quad k = 1: \left(\frac{3\pi}{4}, -1\right)$$

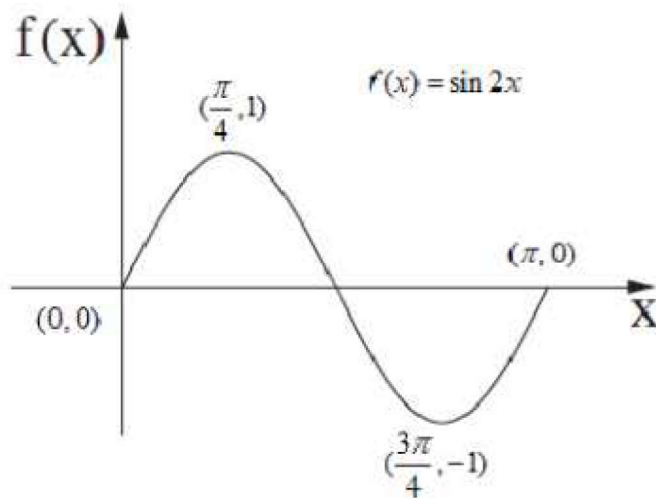
נבנה טבלה לזיהוי תחומי עלייה וירידה, וסוג הקיצון, בעזרת ערכי הפונקציה.

(סימני הנגזרת הוספו, כי לעיתים נדרש לצייר את גרף הנגזרת.)

x	0		$\frac{\pi}{4}$		$\frac{3\pi}{4}$		π
$f(x)$	0		1		-1		0
$f'(x)$		+		-		+	
מסקנה	Min	↘	Max	↗	Min	↘	Max

תשובה: $(\pi, 0)$ מקסימום, $(\frac{3\pi}{4}, -1)$ מינימום, $(\frac{\pi}{4}, 1)$ מקסימום, $(0, 0)$ מינימום.

(3) נסרטט את גרף הפונקציה $f(x) = \sin 2x$, המוגדרת בתחום $0 \leq x \leq \pi$.



ב. נתונה הפונקציה $g(x) = 2 \sin x$, המוגדרת בתחום $0 \leq x \leq \pi$.

$$\sin 2x = 2 \sin x$$

$$2 \sin x \cos x - 2 \sin x = 0$$

$$2 \sin x (\cos x - 1) = 0$$

$$\sin x = 0 \quad \cos x = 1$$

$$x = \pi k$$

$$x = 2\pi k$$

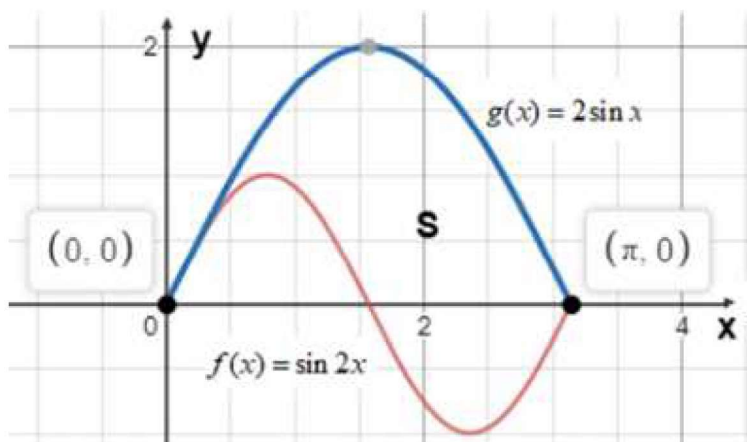
$$k = 0: (0, 0)$$

$$k = 0: (0, 0)$$

$$k = 1: (\pi, 0)$$

תשובה: $(0, 0)$, $(\pi, 0)$.

ג. נחשב את השטח הכלוא בין שני הגרפים.



$$S = \int_0^{\pi} (2 \sin x - \sin 2x) dx$$

$$S = -2 \cos x + \frac{\cos 2x}{2} \Big|_0^{\pi}$$

$$x = \pi: 2.5$$

$$x = 0: -1.5$$

$$S = 2.5 - (-1.5)$$

$$\boxed{S = 4}$$

תשובה: גודל השטח הוא 4 יח"ר.

א. נתונה הפונקציה $f(x) = 9 - (\ln x)^2$.

(1) בתחום ההגדרה הביטוי שמקבלת הפונקציה הלוגריתמית צ"ל חיובי.

תשובה: תחום ההגדרה הוא $x > 0$.

(2) בנקודות החיתוך של הפונקציה עם ציר ה- x מתקיים $y = 0$.

$$0 = 9 - (\ln x)^2$$

$$(\ln x)^2 = 9$$

$$\ln x = 3 \rightarrow x = e^3 \approx 20.09 \rightarrow (e^3, 0)$$

$$\ln x = -3 \rightarrow x = e^{-3} = \frac{1}{e^3} \approx 0.05 \rightarrow \left(\frac{1}{e^3}, 0\right)$$

אין נקודת חיתוך עם ציר ה- y , כי בתחום ההגדרה $x > 0$.

תשובה: $(e^3, 0)$, $\left(\frac{1}{e^3}, 0\right)$.

(3) נמצא את שיעור נקודת הקיצון של הפונקציה $f(x)$, ונקבע את סוגה.

$$f'(x) = -\frac{2 \ln x}{x}$$

$$0 = \ln x$$

$$x = 1 \rightarrow y = 9 - (\ln 1)^2 = 9 \rightarrow (1, 9)$$

$$\left. \begin{array}{l} f'(0.5) = (-) \cdot \frac{(-)}{(+)} > 0 \\ f'(2) = (-) \cdot \frac{(+)}{(+)} < 0 \end{array} \right\} \text{max}$$

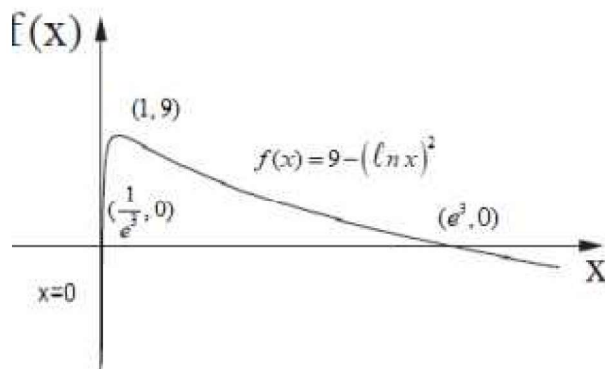
תשובה: $(1, 9)$ מקסימום.

(4) נסרטט סקיצה של גרף הפונקציה $f(x) = 9 - (\ln x)^2$.

שתי הצבות ליתר ביטחון, בתוך תחום ההגדרה, למציאת אסימפטוטות ולהתמצאות כללית.

כאשר $x \rightarrow +\infty$, למשל $f(1000) = -38 \rightarrow -\infty$, ואין אסימפטוטה אופקית לימין.

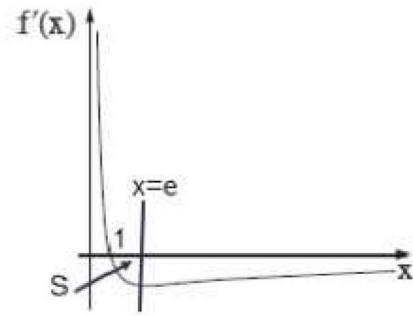
כאשר $x \rightarrow 0$, למשל $f(0.001) = -76 \rightarrow -\infty$, והישר $x = 0$ אסימפטוטה אנכית.



ב. מובא סרטוט של גרף הנגזרת, $f'(x)$.

על פי סעיף א(3) הנגזרת מתאפסת כאשר $x=1$.

(הערה – אין מידע להבנה למה הישר $x=e$ עובר בנקודת הקיצון של הנגזרת, אולם אין לזה חשיבות.)



$$S = \int_1^e (0 - f'(x)) dx$$

$$S = -f(x) \Big|_1^e$$

$$x=e: -(9 - (\ln e)^2) = -8$$

$$x=1: -9$$

$$S = -8 - (-9)$$

$$\boxed{S=1}$$

תשובה: השטח המוגבל הוא 1 יח"ר.

נוסחת הגידול והדעיכה: $M_t = M_0 \cdot q^t$, כאשר M_0 - הכמות ההתחלתית
 q הוא גורם הגידול, M_t הכמות לאחר זמן t .

א. ב- 4 שנים (מיום המדידה השני ועד חמש שנים מהמדידה הראשונה)

ירדה כמות החומר מ- $(\frac{1}{3})^2$ ק"ג ל- $(\frac{1}{3})^{10}$ ק"ג.

$$\left(\frac{1}{3}\right)^{10} = \left(\frac{1}{3}\right)^2 \cdot q^4 \quad /: \left(\frac{1}{3}\right)^2$$

$$\left(\frac{1}{3}\right)^8 = q^4$$

$$\sqrt[4]{\left(\frac{1}{3}\right)^8} = q$$

$$\left(\frac{1}{3}\right)^2 = q$$

$$\boxed{q = \frac{1}{9}}$$

כלומר, בשנה הראשונה החומר הגיע ל- $\frac{1}{9}$ מכמותו ביום המדידה הראשון,

ומכאן שהכמות ההתחלתית שלו הייתה 1 ק"ג $\cdot \left(\frac{1}{3}\right)^2 = 9$.

$$\left(\frac{1}{3}\right)^2 = M_0 \cdot \left(\frac{1}{9}\right)^1 \quad /: \left(\frac{1}{9}\right) \rightarrow \boxed{M_0 = 9}$$

תשובה: קצב הדעיכה הוא פי $\frac{1}{9}$ לשנה (כל שנה החומר מאבד $\frac{8}{9}$ מכמותו, או קטן פי 9).

כמות החומר ההתחלתית הייתה 1 ק"ג.

ב. נתונה הפונקציה $g(x) = 3^{-2x}$.

נשים לב ש- $g(x) = 3^{-2x} = (3^{-2})^x = \left(\frac{1}{9}\right)^x$, ולכן $g(x)$ מתארת את כמות החומר לאחר יום המדידה הראשון.

(1) בנקודת חיתוך עם ציר ה- y מתקיים $x=0$: $(0,1)$ → $g(0) = \left(\frac{1}{9}\right)^0 = 1$

$g(x) = 3^{-2x}$ פונקציה חיובית, ולכן אין חיתוך עם ציר ה- x .

תשובה: $(0,1)$.

(2) נמצא את תחומי העלייה והירידה של $g(x) = 3^{-2x}$.

$$g'(x) = 3^{-2x} \cdot \ln 3 \cdot (-2)$$

$$g'(x) = (-2 \ln 3) \cdot 3^{-2x}$$

הנגזרת שלילית לכל x , ולכן הפונקציה יורדת לכל x .

תשובה: ירידה – כל x , עלייה – אף x .

(3) נסרטט סקיצה של גרף הפונקציה $g(x) = 3^{-2x}$.

הצבה אחת ליתר ביטחון, בתוך תחום ההגדרה, למציאת אסימפטוטות ולהתמצאות כללית.

כאשר $x \rightarrow +\infty$, למשל $g(10) = 2.8 \cdot 10^{-10} \rightarrow +0$, ו- $y=0$ אסימפטוטה אופקית לימין.

