

א. נתונה הסדרה החשבונית  $a_1, a_2, a_3, \dots, a_n$ .

$$a_1 = 2.5$$

האיבר במקום ה- 33 גדול ב- 80 מהאיבר במקום ה- 17 ולכן:

$$a_{33} = a_{17} + 80$$

$$a_1 + 32d = a_1 + 16d + 80$$

$$16d = 80$$

$$d = 5$$

מהסדרה הנתונה לקחו כל איבר שלישי, כך שהתקבלה סדרה חשבונית חדשה:

$a_3, a_6, a_9, \dots, a_n$ . כיוון ששתי הסדרות מסיימות באותו איבר,

הרי שמספר האיברים בסדרה המקורית מתחלק ב- 3 ללא שארית.

בכל מקרה, נראה שהסדרה החדשה היא חשבונית (למרות שזה כבר נתון), ונמצא את הפרש הקבוע

. כלומר הפרש קבוע, אינו תלוי ב-  $k$ , ולכן הסדרה חשבונית.

כיוון, שנתון כי זו סדרה חשבונית – ניתן גם  $a_6 - a_3 = a_3 + 3d - a_3 = 3d = 3 \cdot 5 = 15$

תשובה: הפרש הסדרה החדשה הוא 15.

ב. סכום כל האיברים בסדרה החדשה הוא 3100.

(1) נסמן ב-  $t$  את מספר איברי הסדרה, כאשר  $t = \frac{n}{3}$ , ו-  $a_3 = a_1 + 2d = 2.5 + 2 \cdot 5 = 12.5$

$$S_n = \frac{n(2a_1 + d(n-1))}{2}$$

$$3100 = \frac{t(2 \cdot 12.5 + 15(t-1))}{2}$$

$$6200 - t(25 + 15t - 15)$$

$$6200 = t(15t + 10)$$

$$0 = 15t^2 + 10t - 6200$$

$$t_{1,2} = \frac{-10 \pm 610}{30}$$

$$t = 20 \leftarrow t > 0$$

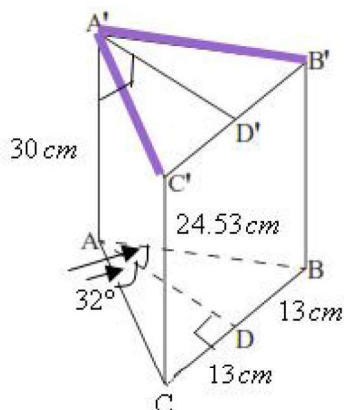
תשובה: בסדרה החדשה 20 איברים.

(2) בסדרה המקורית פי שלושה איברים, לכן יש בה 60 איברים.

תשובה: בסדרה המקורית 60 איברים.

א. כיוון שבסיס המנסרה הוא משולש שווה שוקיים,  $AC = AB$ ,

הרי ש-  $AD$ , הגובה לבסיס, הוא גם תיכון לבסיס וגם חוצה זווית הראש.



$$CD = BD = \frac{26}{2} = 13 \text{ cm}$$

$$\angle DAC = \angle DAB = \frac{64^\circ}{2} = 32^\circ$$

ACD

$$\tan 32^\circ = \frac{CD}{AD}$$

$$AD = \frac{13}{\tan 32^\circ}$$

$$\boxed{AD = 20.80 \text{ cm}}$$

$$.S = \frac{BC \cdot AD}{2} = \frac{26 \cdot 20.80}{2} = 270.46 \text{ cm}^2 \quad \text{שטח הבסיס:}$$

נתון כי נפח המנסרה שווה 8112 סמ"ק.

$$8112 = 270.46 \cdot H \rightarrow H = 29.99 \approx 30 \text{ cm}$$

תשובה: גובה המנסרה הוא 30 ס"מ.

ב. הזווית בין  $A'B$  למישור הבסיס  $ABC$ , היא  $\angle A'BA$  שבין  $A'B$  (המשופע) לבין ההיטל שלו לבסיס  $ABC$ ,

ומתקבלת במשולש ישר הזווית  $A'AB$  ( $\angle A'AB = 90^\circ$ ).

A'AB

$$\tan \angle A'BA = \frac{AA'}{AB}$$

$$\tan \angle A'BA = \frac{30}{24.53}$$

$$\boxed{\angle A'CA = 50.73^\circ}$$

ABD

$$\sin 32^\circ = \frac{BD}{AB}$$

$$AB = \frac{13}{\sin 32^\circ}$$

$$\boxed{AB = 24.53 \text{ cm}}$$

תשובה: הזווית בין  $A'B$  למישור הבסיס  $ABC$  היא בת  $50.73^\circ$ .

ב. הזווית  $A'AD'$  מתקבלת במשולש ישר הזווית  $AA'D'$  ( $\angle AA'D' = 90^\circ$ ).

AA'D'

$$\tan \angle A'AD' = \frac{A'D'}{AA'}$$

$$\tan \angle A'AD' = \frac{20.80}{30}$$

$$\boxed{\angle A'AD' = 34.73^\circ}$$

תשובה: הזווית  $A'AD'$  היא בת  $34.73^\circ$ .

א. נתונה הפונקציה  $f(x) = 0.5x - 0.5 \cos(2x) + 0.5$  והישר  $y = 0.5x$ .

(1) נמצא את שיעורי ה- $x$  של הנקודות המשותפות שלהם בתחום  $-\pi \leq x \leq \pi$ .

$$0.5x = 0.5x - 0.5 \cos(2x) + 0.5$$

$$0.5 \cos 2x = 0.5$$

$$\cos 2x = 1$$

$$2x = 2\pi k$$

$$x = \pi k$$

עבור  $k = 0, 1, -1$  נקבל  $x = 0, \pi, -\pi$

תשובה:  $x = 0, \pi, -\pi$ .

(2) נמצא האם הנגזרות שוות בנקודות אלו, כלומר שיפוע הפונקציה שווה לשיפוע הישר שהוא 0.5.

$$f'(x) = 0.5 + \sin 2x$$

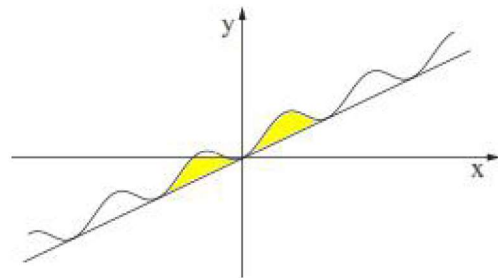
$$f'(0) = 0.5 + \sin(2 \cdot 0) = 0.5 \quad o.k.$$

$$f'(\pi) = 0.5 + \sin(2 \cdot \pi) = 0.5 \quad o.k.$$

$$f'(-\pi) = 0.5 + \sin(2 \cdot (-\pi)) = 0.5 \quad o.k.$$

תשובה: הישר משיק לפונקציה בנקודות אלו.

ב. בכל התחום  $-\pi \leq x \leq \pi$  גרף הפונקציה אינו מתחת למשיק:



נחשב את גודל השטח (הצהוב).

$$S = \int_{-\pi}^{\pi} (0.5x - 0.5 \cos(2x) + 0.5 - 0.5x) dx$$

$$S = \int_{-\pi}^{\pi} (-0.5 \cos(2x) + 0.5) dx$$

$$S = \left( -\frac{\sin 2x}{4} + 0.5x \right) \Big|_{-\pi}^{\pi}$$

$$S = \left( -\frac{\sin 2\pi}{4} + 0.5\pi \right) - \left( -\frac{\sin(2(-\pi))}{4} + 0.5(-\pi) \right)$$

$$S = 0.5\pi + 0.5\pi$$

$$S = \pi$$

תשובה: גודל השטח הוא  $\pi$ .

א. נתונה הפונקציה  $f(x) = 2x^2 e^{-\frac{x^2}{m}}$  (פרמטר שונה מ-0)

תשובה: הפונקציה מוגדרת לכל  $x$ .

ב. לפונקציה נקודת קיצון ב-  $x = -2$ , לכן בנקודה זו הנגזרת מתאפסת.

$$f'(x) = 4xe^{-\frac{x^2}{m}} + 2x^2 e^{-\frac{x^2}{m}} \left(-\frac{2x}{m}\right) = 2e^{-\frac{x^2}{m}} (2x - x^2 \cdot \frac{2x}{m})$$

$$0 = 2 \cdot (-2) - (-2)^2 \cdot \frac{2 \cdot (-2)}{m}$$

$$0 = -4 + \frac{16}{m} \rightarrow 0 = -4m + 16 \rightarrow \boxed{m = 4}$$

תשובה:  $m = 4$ .

נציב  $m = 4$  ולכן  $f(x) = 2x^2 e^{-\frac{x^2}{4}}$  (ניתן לראות שזו פונקציה זוגית  $f(-x) = f(x)$  ואי-שילית).

ג. (1) בנקודת החיתוך של הפונקציה עם ציר ה- $x$  מתקיים  $y = 0$  ומתקבל  $2x^2 = 0$  ובהתאם  $(0, 0)$

זו כמובן גם נקודת החיתוך של גרף הפונקציה עם ציר ה- $y$ .

תשובה:  $(0, 0)$ .

(2) נמצא את שיעורי נקודות הקיצון ואת סוגן:

$$f'(x) = 4xe^{-\frac{x^2}{4}} + 2x^2 e^{-\frac{x^2}{4}} \left(-\frac{2x}{4}\right)$$

$$\boxed{f'(x) = 2e^{-\frac{x^2}{4}} (2x - 0.5x^3)}$$

$$0 = x(2 - 0.5x^2) \rightarrow x = 0 \rightarrow (0, 0)$$

$$2 - 0.5x^2 = 0 \rightarrow x^2 = 4 \rightarrow x = \pm 2$$

$$x = 2 \rightarrow f(2) = 2 \cdot 2^2 e^{-\frac{2^2}{4}} \rightarrow \boxed{\left(2, \frac{8}{e}\right)} \rightarrow \boxed{\left(-2, \frac{8}{e}\right)}$$

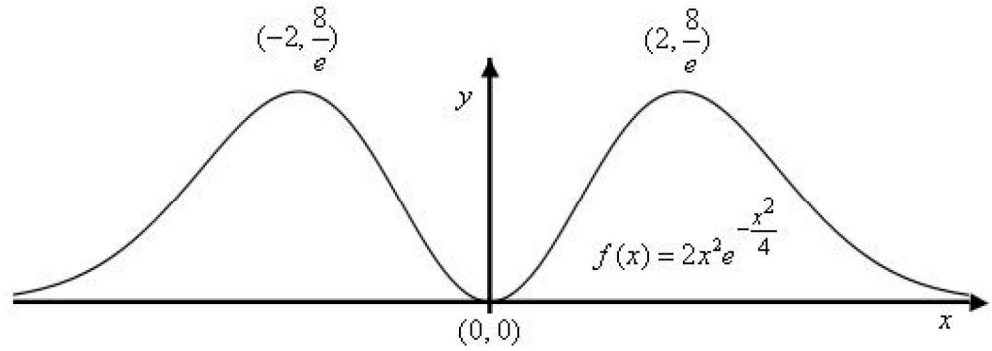
בנה טבלה לזיהוי תחומי עלייה וירידה ( $2e^{-\frac{x^2}{4}}$  חיובי)

$$f'(-3) = 2 \cdot (-3) - 0.5(-3)^3 > 0, \quad f'(-1) < 0, \quad f'(1) > 0, \quad f'(3) < 0$$

	-2		0		2		$x$
+	0	-	0		0	-	$y'$
↖	Max	↘	Min	↖	Max	↘	מסקנה

תשובה:  $\left(2, \frac{8}{e}\right)$ ,  $\left(-2, \frac{8}{e}\right)$  מקסימום,  $(0, 0)$  מינימום.

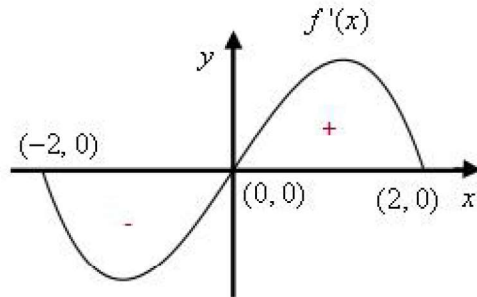
### (3) הסקיצה המתאימה



ד. על פי טבלת עלייה/ ירידה, או הגרף של  $f(x)$ , ניתן לראות ש-  $f'(x) > 0$  עבור  $0 < x < 2$  או  $x < 0$ ,  
ו-  $f'(x) < 0$  עבור  $x > 2$  או  $-2 < x < 0$ .

התחום המבוקש הוא  $-2 \leq x \leq 2$ , כאשר בקצוות  $f'(x) = 0$ .

בהנחה, שלפונקצית הנגזרת אין יותר משתי נקודות קיצון פנימיות, להלן סקיצה אפשרית:



נתונה הפונקציה  $f(x) = -x \ln(2x)$ .

שטח המלבן שווה למכפלת האורך ברוחב, כלומר  $OC \cdot OA$ .

C היא נקודת החיתוך של הפונקציה עם ציר ה-x, לכן  $f(x) = 0$

$$0 = -x \ln(2x)$$

$$x = 0 \rightarrow x_0 = 0$$

$$\ln(2x) = 0 \rightarrow 2x = e^0 = 1 \rightarrow x_c = 0.5$$

ובהתאם:  $OC = 0.5 - 0 = 0.5$ .

הצלע AB משיקה לפונקציה בנקודת המקסימום שלה,

שעל פי הציור עבור  $0 < x < 0.5$ .

$$f'(x) = -\ln(2x) - x \cdot \frac{2}{2x}$$

$$\boxed{f'(x) = -\ln(2x) - 1}$$

$$0 = -\ln(2x) - 1$$

$$\ln(2x) = -1$$

$$2x = e^{-1} = \frac{1}{e}$$

$$x = \frac{1}{2e} \rightarrow f\left(\frac{1}{2e}\right) = -\frac{1}{2e} \cdot \ln\left(2 \cdot \frac{1}{2e}\right) = \frac{1}{2e}$$

ולכן משוואת הצלע AB היא  $y = \frac{1}{2e}$ , ו-  $OA = \frac{1}{2e} - 0 = \frac{1}{2e}$

נחשב את השטח:  $OC \cdot OA = 0.5 \cdot \frac{1}{2e} = \frac{1}{4e}$

תשובה: שטח המלבן הוא  $\frac{1}{4e}$ .

נוסחת הגידול והדעיכה:  $M_t = M_0 \cdot q^t$ , כאשר  $M_0$  - הכמות ההתחלתית  
 $q$  הוא גורם הגידול,  $M_t$  הכמות לאחר זמן  $t$ .

בעוד 10 שנים תרד הכמות ב- 20% מהכמות שיש לחוקר כיום, כלומר תגיע ל- 80% מהכמות כיום.  
 כלומר הכמות תרד מ-  $M_0$  ל-  $0.6M_0$  ב- 10 שנים.

$$0.8M_0 = M_0 \cdot q^{10} \quad /: M_0$$

$$0.8 = q^{10}$$

$$q = \sqrt[10]{0.8}$$

$$\boxed{q = 0.9779}$$

נמצא כעבור כמה שנים, החל מהיום, תרד הכמות ב- 40% מהכמות שיש לחוקר כיום,

כלומר תגיע ל- 60% מהכמות כיום.

$$0.6M_0 = M_0 \cdot 0.9779^t \quad /: M_0$$

$$0.6 = 0.9779^t$$

$$\ln 0.6 = \ln 0.9779^t$$

$$\ln 0.6 = t \ln 0.9779$$

$$\frac{\ln 0.6}{\ln 0.9779} = t$$

$$\boxed{t = 22.89}$$

תשובה בעוד 22.89 שנים.