

א. (1) נסמן ב- x את הכמות (מ"ק) שהפועלים היו אמורים לירות ביום, על פי התכנון.

כמות כוללת (מ"ק) (עבודה)	זמן (ימים)	כמות (מ"ק) (הספק)		
216	$\frac{216}{x}$	x		תכנון
$3x$	3	x	שלושה ימים	בפועל
$232-3x$	$\frac{232-3x}{x+8}$	$x+8$	בשאר הימים	

הפועלים עבדו בפועל יום אחד פחות ממספר הימים המתוכנן.

נפתור את המשוואה המתאימה .

$$\begin{aligned} \frac{232-3x}{x+8} + 3 + 1 &= \frac{216}{x} \\ \frac{232-3x}{x+8} + 4 &= \frac{216}{x} \quad / \cdot x(x+8) \\ x(232-3x) + 4x(x+8) &= 216(x+8) \\ x^2 + 48x - 1728 & \\ \boxed{x=24} \quad \cancel{x=72} &\leftarrow x > 0 \end{aligned}$$

תשובה: הפועלים היו אמורים לירות 24 מ"ק עץ ביום, על-פי התכנון.

(2) התכנון היה לעבוד במשך 9 ימים = $\frac{216}{24}$, אולם בפועל עבדו יום אחד פחות.

תשובה: הפועלים עבדו 8 ימים בפועל.

ב. נבדוק, במהלך איזה יום סיימו הפועלים לירות 144 מ"ק = $\frac{2}{3} \cdot 216$ עץ.

בשלושה ימים, כרתו הפועלים 72 מ"ק = $3 \cdot 24$ עץ.

לאחר מכן, המשיכו 2.25 ימים = $\frac{72}{32} = \frac{144-72}{32}$ עד שכרתו 144 מ"ק עץ, כלומר במהלך היום השישי.

תשובה: במהלך היום השישי סיימו הפועלים לירות $\frac{2}{3}$ מן הכמות המתוכננת.

ג. (1) בקבוצה של $2m$ פועלים, יש m פועלים מנוסים ו- m פועלים מתלמידים.

ההספק היומי של כל הפועלים המנוסים הוא ההספק היומי המתוכנן, שהוא 24 מ"ק עץ.

מכאן, שהספקו של כל אחד מהם הוא $\frac{24}{m}$ מ"ק עץ.

ההספק היומי של כל פועל מתלמד קטן ב-1 מ"ק עץ, מזה של פועל מנוסה.

מכאן, שהספקו של כל אחד מהפועלים המתלמידים הוא $\frac{24}{m} - 1 = \frac{24-m}{m}$ מ"ק עץ.

תשובה: ההספק היומי של פועל מנוסה הוא $\frac{24}{m}$ מ"ק עץ, ושל כל פועל מתלמד הוא $\frac{24-m}{m}$ מ"ק עץ.

(2) הפועלים כרתו 336 מ"ק עץ במשך 8 ימים.

נפתור את המשוואה המתאימה .

$$8m \cdot \frac{24-m}{m} + 8m \cdot \frac{24}{m} = 336$$

$$8(24-m) + 192 = 336$$

$$8(24-m) = 144$$

$$24-m = 18$$

$$m = 6 \rightarrow \boxed{2m = 12}$$

תשובה: בקבוצה החדשה יש 12 פועלים.

א. (1) בסדרה חשבונית יש $2n+3$ איברים, מספר אי-זוגי של איברים.

הוא האיבר האמצעי בסדרה. $a_1, \dots, a_{n+1}, a_{n+2}, a_{n+3}, \dots, a_{2n+3}$ ולכן a_{n+2}

סכום הסדרה גדול פי 43 מהאיבר האמצעי (ששונה מאפס).

בסדרה חשבונית, שבה מספר אי-זוגי של איברים,

שווה סכומה למכפלת האיבר האמצעי במספר האיברים.

כי, $a_1, \dots, a_{n+1}, a_{n+2}, a_{n+3}, \dots, a_{2n+3}$, וכן הלאה.
 $a_1, \dots, a_{n+2} - 2d, a_{n+2} - d, a_{n+2}, a_{n+2} + d, a_{n+2} + 2d, \dots, a_{2n+3}$

לכן, $S_{2n+3} = (2n+3)a_{n+2}$, וזה מה שהתבקשנו להוכיח.

דרך חלופית:

$$S_{2n+3} = \frac{(2n+3)[2a_1 + d(2n+3-1)]}{2}$$

$$S_{2n+3} = \frac{(2n+3)[2a_1 + d(2n+2)]}{2}$$

$$S_{2n+3} = (2n+3)[a_1 + d(n+1)]$$

$$\boxed{S_{2n+3} = (2n+3) \cdot a_{n+2}}$$

תשובה: הוכח.

$$S_{2n+3} = 43a_{n+2} \quad (2)$$

$$(2n+3)a_{n+2} = 43a_{n+2} \quad / : a_{n+2} \neq 0$$

$$\boxed{2n+3 = 43}$$

תשובה: בסדרה 43 איברים.

ב. (1) ידוע כי בסדרה הנתונה סכום האיברים במקומות האי-זוגיים (22 איברים),

גדול ב-40 מסכום האיברים במקומות הזוגיים (21 איברים).

סכום האיברים במקומות האי-זוגיים שווה ל- $22a_{22}$,

וסכום האיברים במקומות הזוגיים שווה ל- $21a_{22}$, (הכול, בהתאם להסבר שהובא בסעיף א).

$$S_{22\text{odd}} = S_{21\text{even}} + 40$$

$$22a_{22} = 21a_{22} + 40$$

$$\boxed{a_{22} = 40}$$

דרך אחרת לפתור תת סעיף זה (הדרך השמרנית):

האיברים במקומות האי-זוגיים	האיברים במקומות הזוגיים	
a_1	$a_2 = a_1 + d$	A_1
$2d$	$a_{n+2} - a_n = a_n + 2d - a_n = 2d$	D
21	22	N

$$S_{22\text{odd}} = S_{21\text{even}} + 40$$

$$\frac{22[2a_1 + 2d(22-1)]}{2} = \frac{21[2(a_1 + d) + 2d(21-1)]}{2} + 40$$

$$22(a_1 + 21d) = 21(a_1 + d + 20d) + 40$$

$$22(a_1 + 21d) = 21(a_1 + 21d) + 40$$

$$a_1 + 21d = 40$$

$$\boxed{a_{22} = 40}$$

תשובה: האיבר האמצעי הוא $a_{22} = 40$.

(2) נמצא את סכום הסדרה.

$$S_{43} = 43a_{22}$$

$$S_{43} = 43 \cdot 40$$

$$\boxed{S_{43} = 1720}$$

תשובה: סכום הסדרה הוא 1720.

ג. נתון כי הפרש הסדרה הנתונה הוא $-a_1$.

$$a_{22} = 40$$

$$a_1 + 21d = 40$$

$$-d + 21d = 40 \quad \leftarrow a_1 = -d \leftarrow d = -a_1$$

$$20d = 40$$

$$\boxed{d = 2}$$

תשובה: הסדרה עולה.

ד. המחובר האחרון, באיבר האחרון של הסדרה החדשה, הוא a_{43} בסדרה המקורית.

כל איבר בסדרה החדשה הוא עם k מחוברים,

לכן המחובר הראשון, באיבר האחרון של הסדרה החדשה, הוא $a_{43-k+1} = a_{44-k}$.

כיוון שהמחובר הראשון, באיבר הראשון של הסדרה החדשה הוא a_1 , הרי שבסדרה החדשה $44-k$ איברים.

תשובה: מספר האיברים בסדרה החדשה הוא $44-k$.

א. (1) נגדיר את המאורעות הבאים:

A - עברו את מבחן המתכונת

\bar{A} - לא עברו את מבחן המתכונת

B - עברו את מבחן הבגרות

\bar{B} - לא עברו את מבחן הבגרות

נתונים ומשמעויות מידיות בשנת 2017

$$N(A \cap \bar{B}) = N(\bar{A} \cap B) \rightarrow P(A \cap \bar{B}) = P(\bar{A} \cap B) = x$$

$$N(A) = N(B) = 250$$

$$P(B/A) = 0.9 \rightarrow P(\bar{B}/A) = 0.1$$

$$P(\bar{A}) = 0.2 \text{ ו- } P(A) = 0.8 \text{ , ומכאן ש: } P(A \cap B) = 0.8 - x \text{ , ולכן: } P(\bar{B}) = 0.2 \rightarrow P(B) = 0.8$$

נציב בטבלה ונשלים נתונים.

	\bar{A} לא עברו מתכונת	A עברו מתכונת	
0.8	$x = 0.08$	$0.8 - x = 0.72$	B עברו בגרות
0.2	0.12	$x = 0.08$	\bar{B} לא עברו בגרות
1	0.2	0.8	

פיתוח נוסחאות הסתברות מותנית

$$P(B/A) = \frac{P(B \cap A)}{P(A)}$$

$$0.9 = \frac{0.8 - x}{0.8}$$

$$0.72 = 0.8 - x$$

$$\boxed{x = 0.08}$$

נציב בטבלה ונשלים נתונים.

$$P(A \cap B) = 0.72 \rightarrow N(A \cap B) = 0.72 \cdot 250 = 180$$

תשובה: 180 תלמידים עברו גם את בחינת המתכונת וגם את בחינת הבגרות.

$$P(B/\bar{A}) = \frac{P(B \cap \bar{A})}{P(\bar{A})} = \frac{0.08}{0.2} = 0.4 \quad (2)$$

תשובה: ההסתברות שתלמיד עבר את בחינת הבגרות, אם ידוע שנכשל בבחינת המתכונת, היא 0.4.

$$\left[P(\bar{B}/\bar{A}) \right]^2 = \left[\frac{P(\bar{B} \cap \bar{A})}{P(\bar{A})} \right]^2 = \left[\frac{0.12}{0.2} \right]^2 = 0.6^2 = 0.36 \quad (3)$$

תשובה: ההסתברות ששני תלמידים (עם החזרה) נכשלו במתכונת, אם ידוע שנכשלו בבגרות, היא 0.36.

ב. נתונים ומשמעויות מידיות בשנת 2018

$$N(A \cap \bar{B}) = N(\bar{A} \cap B) \rightarrow P(A \cap \bar{B}) = P(\bar{A} \cap B) = x$$

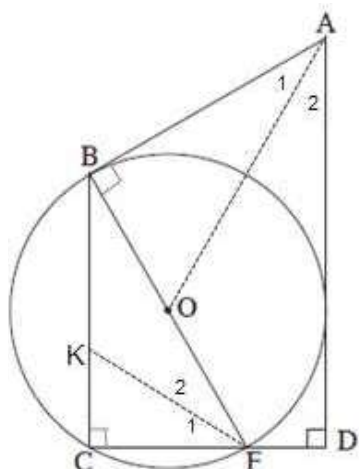
אין תלות בין המאורע "עובר את בחינת המתכונת" לבין המאורע "עובר את בחינת הבגרות".

$$P(B) = a \rightarrow P(\bar{B}) = 1 - a$$

$$P(B) = a \rightarrow P(A \cap B) = a - x \rightarrow P(A) = a$$

	\bar{A} לא עברו מתכונת	A עברו מתכונת	
a	x	$a - x$	B עברו בגרות
$1 - a$		x	\bar{B} לא עברו בגרות
1		a	

- יש להביע את ההסתברות שתלמיד עבר את בחינת המתכונת ונכשל בבחינת הבגרות בשנה זו, באמצעות a .
- נשתמש באי התלות בין המאורעות.
- $P(A \cap \bar{B}) = P(A) \cdot P(\bar{B}) = a(1 - a)$
 - תשובה: ההסתברות היא $a(1 - a)$

**נתונים**

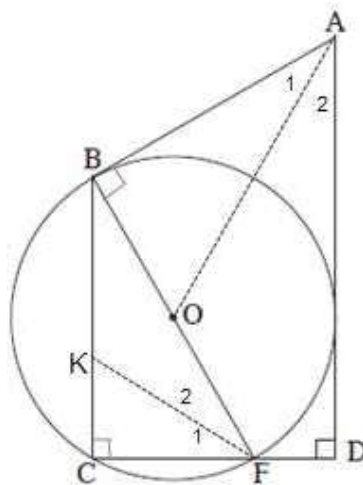
1. O מרכז המעגל 2. R רדיוס המעגל 3. BF קוטר
 4. AB משיק ב- B 5. AD משיק 6. $AD \perp CD$
 עבור ב. 7. $\angle F_1 = \angle F_2$

צ"ל: א. $\angle BFC = \angle BAD$ ב. $KC = \frac{CF \cdot BO}{AB}$

ג. $KB \cdot AB = 2R^2$ ד. $S_{\Delta BFK} > S_{\Delta KFC}$

נימוק	טענה	הסבר	
נתון	O מרכז המעגל	8	1
נתון	AB משיק ב- B	9	4
רדיוס מאונך למשיק בנקודת ההשקה	$AB \perp OB$	10	9, 8
נתון	$AD \perp CD$	11	6
זווית שטוחה שווה 180°	$\angle BFC + \angle BFD = 180^\circ$	12	
סכום זוויות 360° במרובע $ABFD$	$\angle BAD + \angle BFD = 180^\circ$	13	11, 10
חישוב	$\angle BFC = \angle BAD$	14	13, 12
מ.ש.ל. א			
נתון	$\angle F_1 = \angle F_2$	15	7
נתון	AD משיק	16	5
אם מנקודה יוצאים שני משיקים למעגל, אז הקטע למרכז המעגל חוצה את הזווית שבין המשיקים	$\angle A_1 = \angle A_2$	17	16, 9, 1
כלל המעבר	$\angle F_1 = \angle A_1$ (ז)	18	17, 15, 14
נתון	BF קוטר	19	3
זוויות היקפית הנשענת על קוטר היא ישרה	$BC \perp CD$	20	19
כלל המעבר	$\angle C = \angle ABO = 90^\circ$ (ז)	21	20, 10
משפט דמיון זווית זווית	$\Delta FCK \sim \Delta ABO$	22	21, 18
יחסי צלעות מתאימות במשולשים דומים	$\frac{FC}{AB} = \frac{FK}{AO} = \frac{CK}{BO}$	23	22
חישוב	$KC = \frac{CF \cdot BO}{AB}$	24	23
מ.ש.ל. ב			

נימוק	טענה		הסבר
נתון	$\sphericalangle F_1 = \sphericalangle F_2$	25	7
משפט חוצה זווית ΔFCB	$\frac{BK}{KC} = \frac{BF}{CF}$	26	25
חישוב	$KC = \frac{CF \cdot BK}{BF}$	27	26
נתון	R רדיוס המעגל	28	2
כלל המעבר והצבה	$\frac{CF \cdot R}{AB} = \frac{CF \cdot BK}{2R}$	29	28 , 27 , 24 , 19
חישוב	$KB \cdot AB = 2R^2$	30	29
מ.ש.ל. ג			
נוסחאות שטח משולש וכלל המעבר	$\frac{S_{\Delta BFK}}{S_{\Delta KFC}} = \frac{BK \cdot CF \cdot 0.5}{BK \cdot CF \cdot 0.5} = \frac{BK}{KC} = \frac{BF}{CF}$	31	26 , 20
היתר הצלע הגדולה ביותר ב- ΔFCB	$BF > CF$	32	20
חישוב	$S_{\Delta BFK} > S_{\Delta KFC}$	33	32 , 31
מ.ש.ל. ד			



א. (1) R רדיוס המעגל החוסם את $\triangle ABC$.

$ABFE$ מעוין, ולכן האלכסונים חוצים את זוויותיו ומאונכים זה לזה.

$$\angle ABC = \beta, \angle FAE = \angle FAD = \frac{\alpha}{2} \text{ ולכן } \angle BAC = \alpha$$

$$\angle CBF = \angle FAC = \frac{\alpha}{2} \text{ (זוויות היקפיות שוות, הנשענות על אותה קשת).}$$

$$\text{תשובה: } \angle ABF = \beta + \frac{\alpha}{2} = 90^\circ$$

(2) על פי משפט הסינוסים:

$\triangle AFB$

$$\frac{AF}{\sin(\beta + \frac{\alpha}{2})} = 2R \rightarrow \boxed{AF = 2R \sin(\beta + \frac{\alpha}{2})}$$

$$\text{תשובה: } AF = 2R \sin(\beta + \frac{\alpha}{2})$$

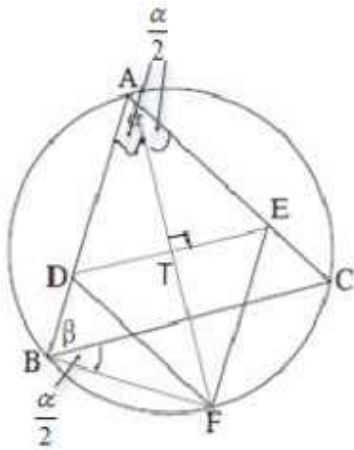
ב. נמצא את אורך צלע המעוין $ABFE$.

$\triangle ATE$

$$\cos \frac{\alpha}{2} = \frac{AT}{AE}$$

$$\boxed{AE = \frac{R \sin(\beta + \frac{\alpha}{2})}{\cos \frac{\alpha}{2}}}$$

$$\text{תשובה: אורך צלע המעוין הוא } \frac{R \sin(\beta + \frac{\alpha}{2})}{\cos \frac{\alpha}{2}}$$



ג. נתון כי הוא קוטר במעגל, לכן $AF = 2R, AT = R$.

(זווית היקפית, הנשענת על הקוטר, היא ישרה) $\sphericalangle ABF = \beta + \frac{\alpha}{2} = 90^\circ$

$$AE = \frac{R \sin 90^\circ}{\cos \frac{\alpha}{2}}$$

$$\boxed{AE = \frac{R}{\cos \frac{\alpha}{2}}}$$

. נמצא את שטח המעוין ABFE

$$S_{ADFE} = AE \cdot AD \cdot \sin \sphericalangle EAD$$

$$S_{ADFE} = \left(\frac{R}{\cos \frac{\alpha}{2}}\right)^2 \sin \alpha$$

$$S_{ADFE} = \frac{R^2 \cdot 2 \sin \frac{\alpha}{2} \cos \frac{\alpha}{2}}{\cos^2 \frac{\alpha}{2}}$$

$$\boxed{S_{ADFE} = 2R^2 \tan \frac{\alpha}{2}}$$

תשובה: הוכח.

ד. נתון כי רדיוס המעגל החסום במעוין הוא $\frac{3}{5}R$.

מפגש אלכסוני המעוין הוא מרכז המעגל החסום בו, כי הוא מפגש חוצי זוויותיו.

נוריד אנך TM , ממפגש אלכסוני המעוין לצלע המעוין.

לכן TM הוא רדיוס המעגל החסום המעוין, כאשר AE הוא משיק למעגל זה.

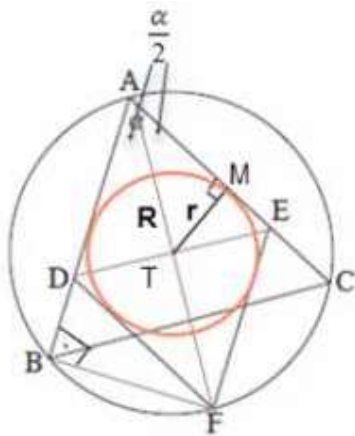
$\triangle ATM$

$$\sin \frac{\alpha}{2} = \frac{TM}{AT} = \frac{0.6R}{R} = 0.6$$

$$\frac{\alpha}{2} = 36.87^\circ \leftarrow \frac{\alpha}{2} < 90^\circ$$

$$\boxed{\beta = 53.13^\circ} \leftarrow \beta + \frac{\alpha}{2} = 90^\circ$$

תשובה: $\beta = 53.13^\circ$.



בגרות עט ימאר 19 מעד חורף שאלון 35581

א. נתונה הפונקציה $g''(x) = -\frac{18}{x^4} + \frac{18}{(x-4)^4}$, שתחום ההגדרה שלה הוא $x \neq 0, 4$.

ולכן, על פי הנתון, זה תחום ההגדרה גם של $g'(x)$ וגם של $g(x)$.

(1) נתון כי משוואת המשיק לפונקציה $g(x)$, בנקודת הפיתול שלה, היא $y = \frac{3}{2}x - 3$.

נמצא את שיעור ה- x בנקודת הפיתול.

$$0 = -\frac{18}{x^4} + \frac{18}{(x-4)^4} \rightarrow \frac{18}{x^4} = \frac{18}{(x-4)^4}$$

$$x^4 = (x-4)^4$$

$$\cancel{x=x-4} \text{ or } -x = x-4 \rightarrow \boxed{x=2}$$

לכן, על פי שיפוע המשיק בנקודת הפיתול $g'(2) = \frac{3}{2}$,

ועל-פי משוואת המשיק, שיעורי נקודת הפיתול הם $(2, 0) \rightarrow y = \frac{3}{2} \cdot 2 - 3 = 0$.

$$g'(x) = \int g''(x) dx = \int 18(-x^{-4} + (x-4)^{-4}) dx$$

$$g'(x) = 18 \cdot \left(-\frac{x^{-3}}{-3} + \frac{(x-4)^{-3}}{-3} \right) + c$$

$$g'(x) = 6 \cdot \left(\frac{1}{x^3} - \frac{1}{(x-4)^3} \right) + c$$

$$\frac{3}{2} = 6 \cdot \left(\frac{1}{2^3} - \frac{1}{(2-4)^3} \right) + c \leftarrow g'(2) = \frac{3}{2}$$

$$\frac{3}{2} = \frac{3}{2} + c \rightarrow c = 0 \rightarrow \boxed{g'(x) = \frac{6}{x^3} - \frac{6}{(x-4)^3}}$$

$$g(x) = \int g'(x) dx = \int 6(x^{-3} - (x-4)^{-3}) dx$$

$$g(x) = 6 \cdot \left(\frac{x^{-2}}{-2} - \frac{(x-4)^{-2}}{-2} \right) + c$$

$$g(x) = 3 \cdot \left(-\frac{1}{x^2} + \frac{1}{(x-4)^2} \right) + c$$

$$0 = 3 \cdot \left(-\frac{1}{2^2} + \frac{1}{(2-4)^2} \right) + c \leftarrow g(2) = 0$$

$$0 = 0 + c \rightarrow c = 0 \rightarrow \boxed{g(x) = \frac{3}{(x-4)^2} - \frac{3}{x^2}}$$

תשובה: $g(x) = \frac{3}{(x-4)^2} - \frac{3}{x^2}$.

(2) תשובה: תחום ההגדרה של $g(x)$ הוא $x \neq 0, 4$.

(3) נמצא את תחומי העלייה והירידה של $g(x)$.

$$g'(x) = \frac{6}{x^3} - \frac{6}{(x-4)^3}$$

$$0 = \frac{6}{x^3} - \frac{6}{(x-4)^3}$$

$$\frac{6}{(x-4)^3} = \frac{6}{x^3}$$

$$x^3 = (x-4)^3$$

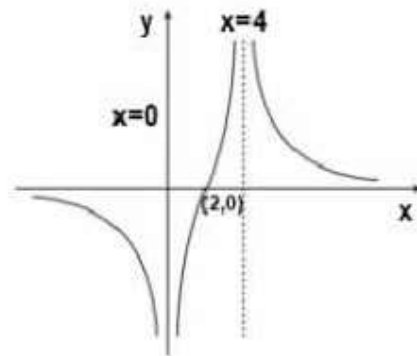
$$x = x-4$$

$$0 = -4$$

אין נקודות קיצון. נמצא את סימני הנגזרת: $g'(-1) < 0$, $g'(1) > 0$, $g'(5) < 0$.

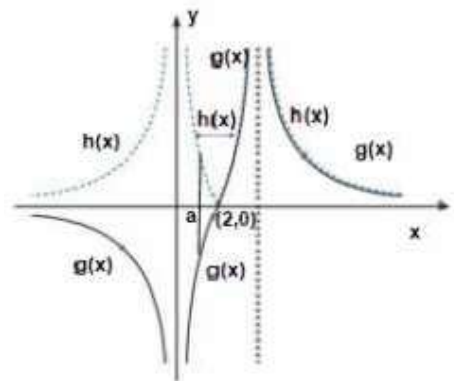
תשובה: עלייה - $0 < x < 4$, ירידה - $x < 0$ או $x > 4$.

(4) סקיצה של $g(x)$.

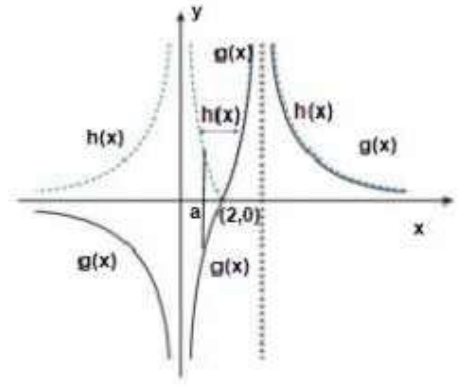


ב. $h(x) = |g(x)| \rightarrow h(x) = \begin{cases} g(x) & x \geq 2, x \neq 4 \\ -g(x) & x < 2, x \neq 0 \end{cases}$

סקיצה מתאימה, כולל סימון שטח עבור סעיף ג.



ג. נתון כי $\int_a^2 g(x) dx = t$, כאשר $0 < a < 2$, ו- t הוא פרמטר.



ניתן לראות, על פי הסקיצה, בתחום $0 < a < 2$,

$$\int_a^2 (h(x) - 0) dx = \int_a^2 (-g(x) - 0) dx = -t : x$$

$$\text{וגם כי מתחת לציר ה-} x : \int_a^2 (0 - g(x)) dx = -t$$

$$\text{מכאן שגודלו של השטח הוא } -t + (-t) = -2t \text{, ולכן } \int_a^2 (h(x) - g(x)) dx = -2t$$

ניתן לחשב, גם ללא היעזרות בשטחים, אך מתוך הבנה כי בתחום $0 < a < 2$ מתקיים $h(a) = -g(a)$:

$$\int_a^2 (h(x) - g(x)) dx = \int_a^2 (-g(x) - g(x)) dx = \int_a^2 (-2g(x)) dx = -2t$$

$$\text{תשובה: } \int_a^2 (h(x) - g(x)) dx = -2t$$

בגרות עס ינואר 19 מועד חורף שאלון 35581

א. נתונה הפונקציה: $f(x) = 2 \sin x + \cos 2x - 1$, בתחום $-\frac{\pi}{2} \leq x \leq \frac{3\pi}{2}$.

(1) בנקודת החיתוך עם ציר ה- y מתקיים $x = 0$, כלומר $(0, 0) \rightarrow f(0) = 2 \sin 0 + \cos(2 \cdot 0) - 1 = 0$.

בנקודת החיתוך עם ציר ה- x מתקיים $y = 0$.

$$0 = 2 \sin x + \cos 2x - 1$$

$$0 = 2 \sin x + 1 - 2 \sin^2 x - 1$$

$$0 = 2 \sin x (1 - \sin x)$$

$$\sin x = 0 \quad \sin x = 1$$

$$x = \pi k \quad x = \frac{\pi}{2} + 2\pi k$$

$$(0, 0) \quad \left(\frac{\pi}{2}, 0\right)$$

$$(\pi, 0)$$

תשובה: $(0, 0)$, $\left(\frac{\pi}{2}, 0\right)$, $(\pi, 0)$.

(2) נמצא את ערכי הפונקציה בקצות התחום הסגור:

$$f\left(-\frac{\pi}{2}\right) = 2 \sin\left(-\frac{\pi}{2}\right) + \cos\left(2 \cdot \left(-\frac{\pi}{2}\right)\right) - 1 = -4 \rightarrow \boxed{\left(-\frac{\pi}{2}, -4\right)}$$

$$f\left(\frac{3\pi}{2}\right) = 2 \sin\left(\frac{3\pi}{2}\right) + \cos\left(2 \cdot \frac{3\pi}{2}\right) - 1 = -4 \rightarrow \boxed{\left(\frac{3\pi}{2}, -4\right)}$$

$$\boxed{f'(x) = 2 \cos x - 2 \sin 2x}$$

$$0 = 2 \cos x - 4 \sin x \cos x$$

$$0 = 2 \cos x (1 - 2 \sin x)$$

$$\cos x = 0 \quad \sin x = 0.5 = \sin \frac{\pi}{6}$$

$$x = \frac{\pi}{2} + \pi k \quad x = \frac{\pi}{6} + 2\pi k \quad x = \frac{5\pi}{6} + 2\pi k$$

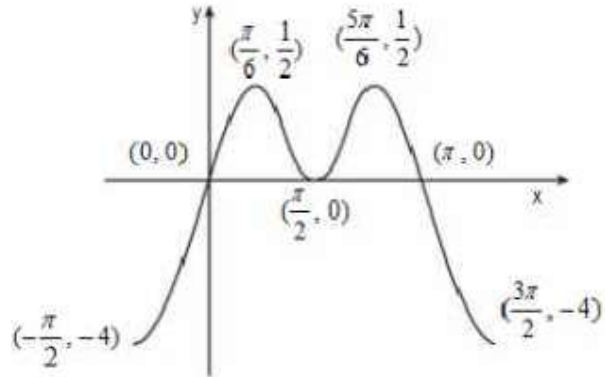
$$\left(\pm \frac{\pi}{2}, 0\right), \left(\frac{3\pi}{2}, -4\right) \quad \left(\frac{\pi}{6}, \frac{1}{2}\right) \quad \left(\frac{5\pi}{6}, \frac{1}{2}\right)$$

בנה טבלת עלייה ירידה, תוך שימוש בערכי הפונקציה ונזהה את נקודות הקיצון וסוגן.

$\frac{3\pi}{2}$		$\frac{\pi}{6}$		$\frac{\pi}{2}$		$\frac{5\pi}{6}$		$\frac{3\pi}{2}$	x
-4		$\frac{1}{2}$		0		$\frac{1}{2}$		-4	$f(x)$
									$f'(x)$
Min	↘	Max	↘	Min	↘	Max	↘	Min	מסקנה

תשובה: $\left(\frac{\pi}{6}, \frac{1}{2}\right)$, $\left(\frac{5\pi}{6}, \frac{1}{2}\right)$ מקסימום, $\left(\frac{3\pi}{2}, -4\right)$, $\left(-\frac{\pi}{2}, -4\right)$ מינימום.

(3) סקיצה של $f(x) = 2 \sin x + \cos 2x - 1$

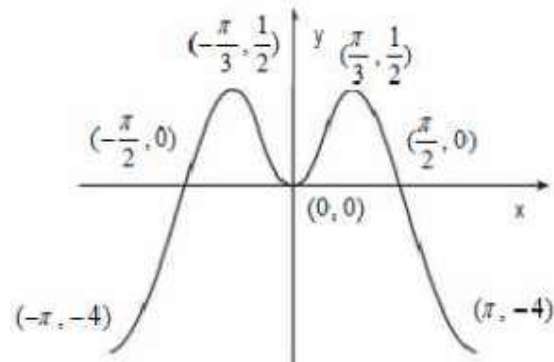


ב. גרף הפונקציה: $f(x) = 2 \sin x + \cos 2x - 1$ הוזז שמאלה ב $\frac{\pi}{2}$,

כך שהתקבלה פונקציה $g(x)$, בתחום $-\pi \leq x \leq \pi$.

(1) תשובה: $g(x) = f(x + \frac{\pi}{2})$

(2) סקיצה מתאימה של $g(x) = f(x + \frac{\pi}{2})$ $(-\pi, -4)$



(3) נוכיח ש- זוגית, כפי שניתן לראות מהסקיצה $g(x) = f(x + \frac{\pi}{2})$

$$g(x) = 2 \sin(x + \frac{\pi}{2}) + \cos 2(x + \frac{\pi}{2}) - 1$$

$$g(x) = 2 \sin(\frac{\pi}{2} - x) + \cos(2x + \pi) - 1 \quad \leftarrow \sin \alpha = \sin(180^\circ - \alpha)$$

$$\boxed{g(x) = 2 \cos x - \cos 2x} \quad \leftarrow \sin(90^\circ - \alpha) = \cos \alpha, \quad \cos \alpha = -\cos(180^\circ + \alpha)$$

$$g(-x) = 2 \cos(-x) - \cos(-2x)$$

$$g(-x) = 2 \cos x - \cos 2x \quad \leftarrow \cos(-\alpha) = \cos \alpha$$

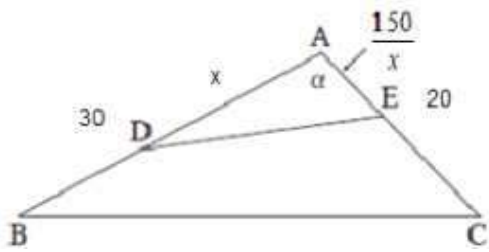
$$\boxed{g(-x) = g(x)}$$

תשובה: הוכח.

ג. $f(x + \frac{\pi}{2})$ היא הזזה שמאלה ב- $\frac{\pi}{2}$ של $f(x)$.

לכן, $\int_0^{\frac{\pi}{2}} f(x) dx = \int_{-\frac{\pi}{2}}^0 f(x + \frac{\pi}{2}) dx$, כי גם הגבולות הוזזו שמאלה ב- $\frac{\pi}{2}$.

$$\int_{-\frac{\pi}{2}}^0 f(x + \frac{\pi}{2}) dx \quad \text{תשובה: II}$$



א. נביע באמצעות x את אורך הקטע AE .

$$S_{\triangle ADE} = \frac{1}{4} S_{\triangle ABC}$$

$$\frac{AE \cdot AD \cdot \sin \angle A}{2} = \frac{1}{4} \cdot \frac{AB \cdot AC \cdot \sin \angle A}{2} \quad /: \frac{\sin \angle A}{2} > 0$$

$$AE \cdot x = \frac{1}{4} \cdot 30 \cdot 20$$

$$\boxed{AE = \frac{150}{x}}$$

תשובה: $AE = \frac{150}{x}$

ב. (1) הפונקציה שיש להביא לאינ'א/ט היא אורך הקטע DE , כאשר α קבוע.

$\triangle ADE$ לפי משפט הקוסינוסים

$$(DE)^2 = (AD)^2 + (AE)^2 - 2AD \cdot AE \cdot \cos \angle A$$

$$(DE)^2 = x^2 + \left(\frac{150}{x}\right)^2 - 2 \cdot x \cdot \frac{150}{x} \cdot \cos \alpha$$

$$(DE)^2 = x^2 + \frac{22500}{x^2} - 300 \cos \alpha$$

$$\boxed{DE = \sqrt{x^2 + \frac{22500}{x^2} - 300 \cos \alpha}} \quad \leftarrow DE > 0$$

$$(DE)' = \frac{2x + \frac{0 - 22500 \cdot 2x}{x^4}}{2\sqrt{x^2 + \frac{22500}{x^2} - 300 \cos \alpha}}$$

$$\boxed{(DE)' = \frac{2x^4 - 45000}{2x^3 \sqrt{x^2 + \frac{22500}{x^2} - 300 \cos \alpha}}}$$

$$2x^4 - 45000 = 0$$

$$x^4 = 22500$$

$$x = 5\sqrt{6} \sim 12.2 \quad \leftarrow x > 0$$

$$\left. \begin{array}{l} (DE)'(12) = \frac{-}{+} < 0 \\ (DE)'(13) = \frac{+}{+} > 0 \end{array} \right\} x = 5\sqrt{6}, o.k.$$

$$DE(5\sqrt{6}) = \sqrt{(5\sqrt{6})^2 + \frac{22500}{(5\sqrt{6})^2} - 300 \cos \alpha}$$

$$DE(5\sqrt{6}) = \sqrt{300 - 300 \cos \alpha}$$

תשובה: האורך המינימלי של הקטע DE הוא $\sqrt{300 - 300 \cos \alpha}$.

(2) כיוון שאורך הצלע BC הוא קבוע, הרי שהיחס $\frac{DE}{BC}$ הוא מינימלי, כאשר DE מינימלי.

על פי תת סעיף ב(1) DE מינימלי, כאשר $x = 5\sqrt{6}$.

תשובה: $x = 5\sqrt{6}$, עבורו היחס $\frac{DE}{BC}$ הוא מינימלי.