

א. נסמן את מהירות הזרם ב- x (קמ"ש).

בהתאם מהירות הרפסודה, שנעה עם הזרם, היא x ,
ומהירותה העצמית של סירת המנוע היא $4x$.

כאשר הסירה שטה עם הזרם מהירותה $4x + x = 5x$, ונגד הזרם $4x - x = 3x$.

מהתחלה עד מפגש ראשון	סירה	זמן - t שעות	מהירות - v ק"מ לשעה	דרך-מרחק - s ק"מ
	סירה	3.75	$3x$	$11.25x$
	רפסודה	3.75	x	$3.75x$
מהתחלה עד שהסירה מגיעה בחזרה לעיירה B	סירה מ- B ל- A	5	$3x$	$15x$
	סירה מ- A ל- B	3	$5x$	$15x$
	רפסודה	8	x	$8x$

משתי השורות הראשונות בטבלה, ניתן לראות שסכום

המרחקים שעוברים כלי השיט הוא $15x$,

ולכן זהו המרחק בין שתי העיירות.

בהתאם בשתי השורות הבאות ניתן למצוא את

זמן השיט של הסירה בכל כיוון,

ומכאן את זמן השיט של הרפסודה,

עד שהגיעה למרחק של 35 ק"מ מעיירה B.

לכן, המשוואה המתאימה מהשורה החמישית, היא $8x + 35 = 15x$,

שפתרונה הוא $x = 5$.

תשובה: מהירות הזרם היא 5 קמ"ש (זו גם מהירות הרפסודה),

ומהירות סירת המנוע במים עומדים היא 20 קמ"ש.



ב. במשך 5 השעות שסירת המנועה שטה מעיירה B לעיירה A, עברה הרפסודה 25 ק"מ $5 \cdot 5$.

נסמן ב- t (שעות) את הזמן שעבר מרגע יציאת סירת המנוע מעיירה A עד למפגש השני.

מהירות סירת המנוע, עם הזרם, היא 25 קמ"ש $5x = 25$.

לכן, המשוואה המתאימה היא $5t + 25 = 25t$, שפתרונה הוא $t = 1.25$.

מכאן שהזמן שעבר מרגע יציאת הרפסודה מעיירה A ועד למפגש השני הוא 6.25 שעות $5 + 1.25$.

תשובה: הזמן שעבר מרגע יציאת הרפסודה מעיירה A

עד שהסירה והרפסודה נפגשו בפעם השנייה הוא 6.25 שעות (שש ורבע שעות).

א. נתונה סדרה a_n המקיימת: $S_n = k - \frac{1}{3^{n+1}}$.

עבור $n > 1$ ניתן לקבל את a_n באמצעות הנוסחה $a_n = S_n - S_{n-1}$.

$$a_n = S_n - S_{n-1}$$

$$a_n = S_n = k - \frac{1}{3^{n+1}} - \left(k - \frac{1}{3^{n-1+1}}\right)$$

$$a_n = S_n = k - \frac{1}{3^{n+1}} - k + \frac{1}{3^n}$$

$$a_n = \frac{-1+3}{3^{n+1}}$$

$$\boxed{a_n = \frac{2}{3^{n+1}}}$$

תשובה: עבור $n > 1$ האיבר הכללי הוא $a_n = \frac{2}{3^{n+1}}$.

ב. בסעיף א' הראינו כי עבור $n > 1$ האיבר הכללי הוא $a_n = \frac{2}{3^{n+1}}$.

כדי להראות שהסדרה היא הנדסית, נדרוש תחילה שהכלל יתפוס גם עבור $n = 1$.

נציב $n = 1$ בכלל מצאנו ונקבל: $a_1 = \frac{2}{3^{1+1}} = \frac{2}{9}$.

במקביל $a_1 = S_1 = k - \frac{1}{3^{1+1}} = k - \frac{1}{9}$.

לכן: $k - \frac{1}{9} = \frac{2}{9}$, ומכאן ש- $k = \frac{1}{3}$.

נוכיח שהסדרה $a_n = \frac{2}{3^{n+1}}$ (נכון לכל n טבעי) היא סדרה הנדסית.

$$\frac{a_{n+1}}{a_n} = \frac{\frac{2}{3^{n+1+1}}}{\frac{2}{3^{n+1}}} = \frac{2}{3^{n+2}} \cdot \frac{3^{n+1}}{2} = \frac{1}{3}$$

מכאן שהמנה בין כל שני איברים עוקבים קבועה (לא תלויה ב- n), כאשר $q = \frac{1}{3}$.

תשובה: $k = \frac{1}{3}$, מנת הסדרה היא $q = \frac{1}{3}$.

$$g. \text{ נתון כי } T = a_2^2 + a_5^2 + a_8^2 + \dots$$

נוכח שהסדרה T_n היא סידרה הנדסית אין-סופית מתכנסת ונחשב את סכומה.

$$\frac{a_{n+3}^2}{a_n^2} = \frac{(a_n q^3)^2}{a_n^2} = \frac{a_n^2 q^6}{a_n^2} = q^6 = \left(\frac{1}{3}\right)^6 = \frac{1}{729}$$

מכאן שהמנה בין כל שני איברים עוקבים קבועה (לא תלויה ב- n),

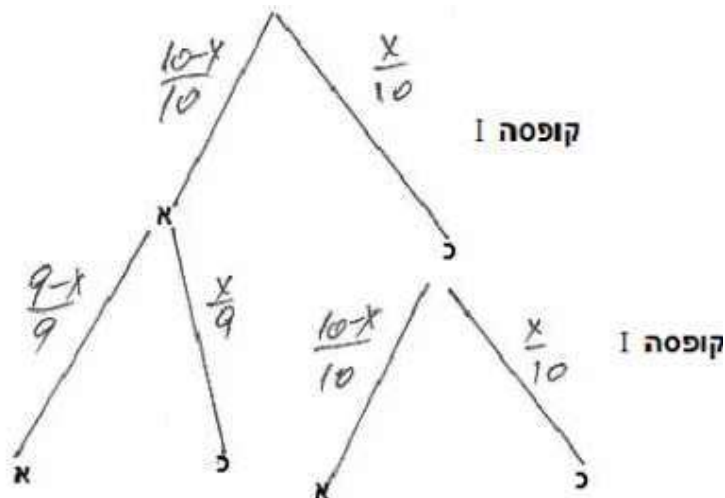
כאשר $q^* = \frac{1}{729}$, כלומר המנה היא בין -1 ל- 1 והסדרה אין-סופית מתכנסת.

$$T = \frac{a_2^2}{1 - q^*} = \frac{\left(\frac{2}{27}\right)^2}{1 - \frac{1}{729}} = \frac{1}{182}$$

$$T = \frac{1}{182} \text{ תשובה:}$$

בגרות עז יולי 17 מעד קיץ ב שאלון 35806/35581

- א. שתי הוצאות הראשונות הן מקופסה I שבה x כדורים כחולים, ו- $10-x$ כדורים אדומים, באם יוצא כדור כחול מחזירים אותו לקופסה, ואם יוצא כדור אדום מעבירים אותו לקופסה II. נציג עץ הסתברויות מתאים.



נתון כי ההסתברות שלאחר שתי הוצאות מקופסה I יועבר כדור אדום אחד בלבד לקופסה II היא $\frac{19}{36}$.

$$\frac{19}{36} = \frac{x}{10} \cdot \frac{10-x}{10} + \frac{10-x}{10} \cdot \frac{x}{9}$$

$$\frac{19}{36} = \frac{x(10-x)}{100} + \frac{x(10-x)}{90}$$

$$\frac{19}{36} = \frac{19x(10-x)}{900}$$

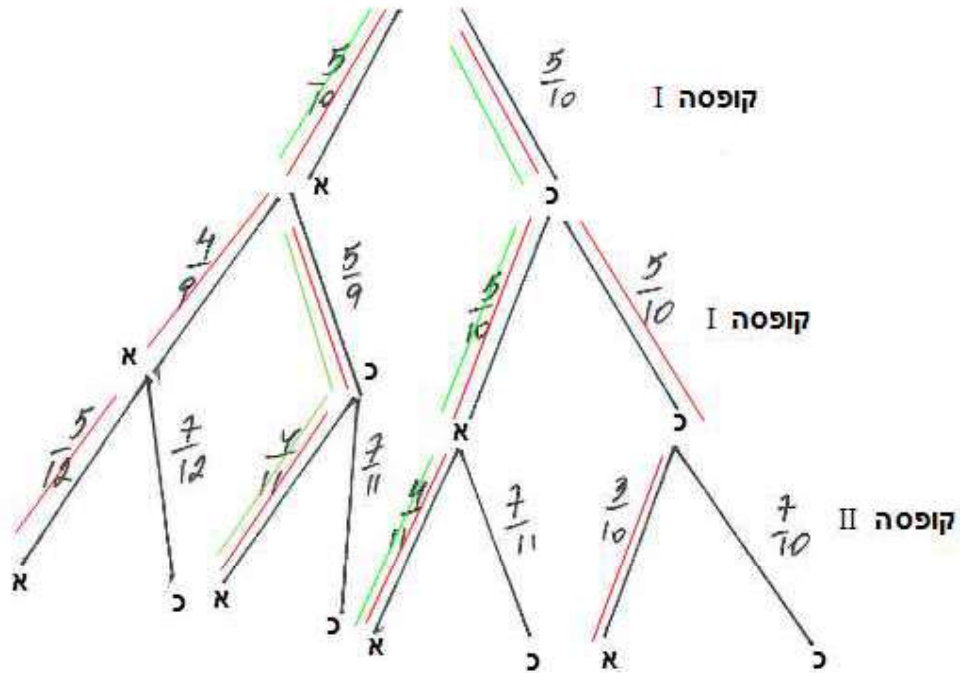
$$25 = x(10-x)$$

$$x^2 - 10x + 25 = 0$$

$$\boxed{x=5}$$

תשובה: מספר הכדורים הכחולים שהיו בקופסה I לפני ההוצאה הראשונה הוא חמישה.

ב. אם כך, בקופסה I יש לפני הוצאה הראשונה 5 כדורים כחולים ו- 5 אדומים.
 בקופסה II יש לפני הוצאה הראשונה 7 כדורים כחולים ו- 3 כדורים אדומים.
 נציג עץ הסתברויות חדש, ונשים לב שאם הוצא כדור אדום מקופסה I, הוא מועבר לקופסה II,
 כך שבקופסה הראשונה יהיה אחד פחות ובשנייה אחד יותר.



נחשב את ההסתברות שהכדור שהוצא מקופסה II הוא אדום (מסלולים מסומנים באדום).

$$P(\text{red from box II}) = \frac{5}{10} \cdot \frac{5}{10} \cdot \frac{3}{10} + \frac{5}{10} \cdot \frac{5}{10} \cdot \frac{4}{11} + \frac{5}{10} \cdot \frac{5}{9} \cdot \frac{4}{11} + \frac{5}{10} \cdot \frac{4}{9} \cdot \frac{5}{12}$$

$$P(\text{red from box II}) = \frac{4271}{11880} \approx 0.3595$$

תשובה: ההסתברות שהכדור שהוצא מקופסה II הוא אדום היא $\frac{4271}{11880} \approx 0.3595$

ג. נחשב את ההסתברות שאחרי שהוציאו את הכדור האדום מקופסה II נשארו בה שלושה כדורים אדומים בדיוק (משמע, לפני הוצאה היו בה ארבעה כדורים אדומים).
 אלו המסלולים הירוקים, מתוך המסלולים האדומים.

$$P(3 \text{ red after} \mid \text{red from box II}) = \frac{P(3 \text{ red after} \cap \text{red from box II})}{P(\text{red from box II})} =$$

$$P(3 \text{ red after} \mid \text{red from box II}) = \frac{\frac{5}{10} \cdot \frac{5}{10} \cdot \frac{4}{11} + \frac{5}{10} \cdot \frac{5}{9} \cdot \frac{4}{11}}{\frac{4271}{11880}} =$$

$$P(3 \text{ red after} \mid \text{red from box II}) = \frac{2280}{4271} \approx 0.5338$$

תשובה: ההסתברות שישארו בקופסה II שלושה כדורים אדומים,

לאחר הוצאת כדור אדום היא $\frac{2280}{4271} \approx 0.5338$

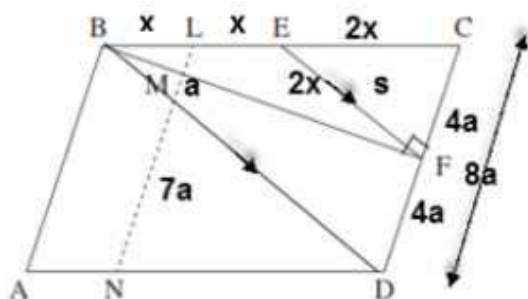
נתונים

1. ABCD מקבילית. 2. $\angle A < 90^\circ$. 3. BE = EC. 4. CF = FD.

5. $S_{\Delta ECF} = s$

עבור ב: 6. BL = LE. 6. LN || AB. עבור ג: 7. BE = EF.

צ"ל: א. S_{ABCD} . ב. $\frac{LM}{MN}$. ג. האם ABFD בר חסימה במעגל.



נימוק	טענה	הסבר	
נתון	CF = FD	8	4
נתון	$S_{\Delta ECF} = s$	9	5
התיכון EF מחלק את ΔBCF לשני משולשים שווי שטח	$S_{\Delta BCF} = 2s$	10	9, 8
התיכון BF מחלק את ΔBCD לשני משולשים שווי שטח	$S_{\Delta BCD} = 4s$	11	10, 8
נתון	ABCD מקבילית	12	1
האלכסון BD מחלק את המקבילית לשני משולשים (חופפים) שווי שטח	$S_{ABCD} = 8s$	13	12, 11
מ.ש.ל. א			
נתון וסימון	BE = EC = 2x	14	3
נתון וחישוב	BL = LE = x	15	14, 6
חישוב	$\frac{BL}{BC} = \frac{1}{4}$	16	15, 14
נתון	LN AB	17	6
צלעות נגדיות מקבילות במקבילית	DC AB	18	12
שני ישרים המקבילים לישר שלישי, מקבילים	LN DC	19	18, 17
משפט תאלס הרחבה 1	$\frac{LM}{CF} = \frac{BL}{BC} = \frac{1}{4}$	20	19, 16
חישוב	$\frac{LM}{CD} = \frac{1}{8}$	21	20, 8
צלעות נגדיות מקבילות במקבילית	BC AD	22	12
שני זוגות של צלעות נגדיות מקבילות	LCDN מקבילית	23	22, 18
צלעות נגדיות שוות במקבילית	LN = CD	24	23
הצבה	$\frac{LM}{LN} = \frac{1}{8}$	25	24, 21
כללי פרופורציה	$\frac{LM}{MN} = \frac{1}{7}$	26	25
מ.ש.ל. ב			

נימוק	טענה		הסבר
נתון	$BE = EF$	27	7
כלל המעבר	$BE = EF = EC$	28	27, 14
משפט הפוך לתיכון ליתר	$\sphericalangle CFB = 90^\circ$	29	28
זוויות צמודות משלימות ל- 180°	$\sphericalangle DFB = 90^\circ$	30	29
נתון	$\sphericalangle A < 90^\circ$	31	2
זוויות נגדיות לא משלימות ל- 180°	ABFD אינו בר חסימה במעגל	32	31, 30
מ.ש.ל. ג			

א. ABCD טרפז החסום במעגל, ולכן הוא טרפז שווה שוקיים.

הסבר – ניתן להעביר אלכסון, ולהראות זוויות מתחלפות שוות ובהתאם מיתרים וקשתות שוות.

נעביר $AE \parallel BC$, ונקבל מקבילית AECB מימין (שני זוגות של צלעות נגדיות מקבילות)

ומשולש שווה צלעות משמאל (כל זוויותיו שוות 60°), כי זוויות בסיס שוות בטרפז שווה שוקיים,

$\angle AED = \angle BCD = 60^\circ$, זוויות מתאימות שוות בין ישרים מקבילים).

$CE = AB = a$, צלעות נגדיות שוות במקבילית, $DE = b - a$ ומכאן ש- $BC = AD = b - a$.

תשובה: $BC = AD = b - a$.

ב. $\triangle ABD$ לפי משפט הקוסינוסים

$$\angle BAD = 180^\circ - 60^\circ = 120^\circ$$

$$(BD)^2 = (AD)^2 + (AB)^2 - 2AD \cdot AB \cdot \cos \angle BAD$$

$$(4\sqrt{7})^2 = 16^2 + (b-4)^2 - 2 \cdot 4 \cdot (b-4) \cdot \cos 120^\circ$$

$$112 = 16 + (b-4)^2 + 4(b-4)$$

$$(b-4)^2 + 4(b-4) - 96 = 0$$

$$b-4 = 8 \rightarrow \boxed{b=12}$$

$$b-4 = -12 \rightarrow \cancel{b=-8}$$

תשובה: $b = 12$.

ג. (1) נמצא את רדיוס המעגל החוסם את הטרפז, וגם את $\triangle ABD$.

$\triangle ABD$ לפי משפט הסינוסים

$$\frac{BD}{\sin 120^\circ} = 2R$$

$$\frac{4\sqrt{7}}{2 \sin 120^\circ} = R$$

$$\boxed{R = 6.11 \text{ cm}}$$

תשובה: $R = 6.11$ ס"מ.

(2) סכום אורכי השוקיים 16 ס"מ $= 8 + 8$, שווה לסכום הבסיסים 16 ס"מ $= 12 + 4$.

תשובה: ניתן לחסום מעגל בטרפז כי סכום צלעות נגדיות שווה.

(3) מרכז מעגל חסום הוא מפגש חוצי זוויות. $\angle MCQ = 0.5 \cdot 60^\circ = 30^\circ$.

$\triangle CMQ$ (C מרכז המעגל, Q נקודת ההשקה, $\triangle DMC$ שוקיים,

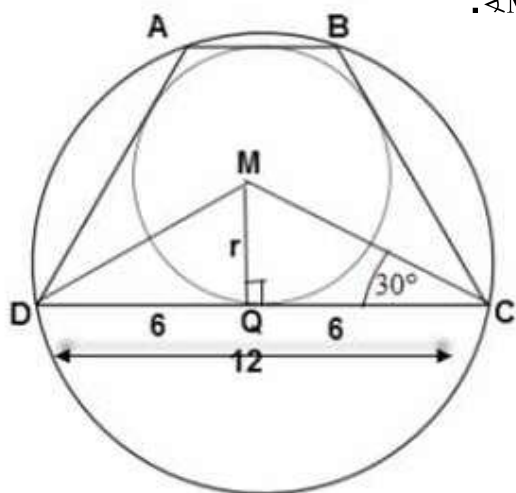
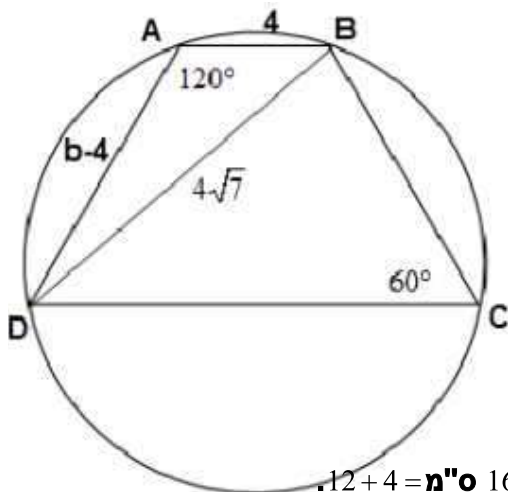
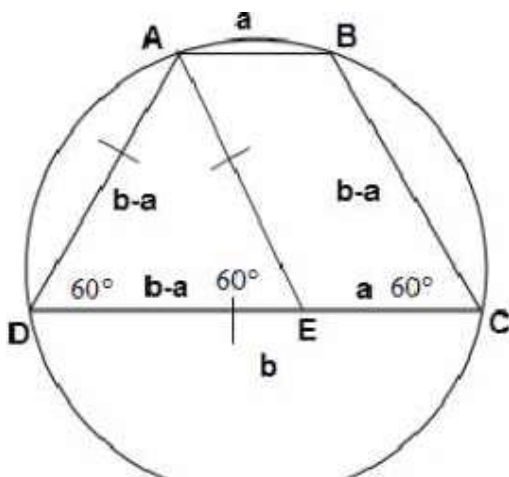
לכן הגובה CQ הוא גם תיכון)

$$\tan 30^\circ = \frac{r}{QC}$$

$$6 \tan 30^\circ = r$$

$$\boxed{r = 2\sqrt{3} \approx 3.464 \text{ cm}}$$

תשובה: $r = 2\sqrt{3} \approx 3.464$ ס"מ.



א. נתונה הפונקציה $f(x) = a - \frac{2}{x-2} + \frac{1}{(x-2)^2}$ (פרמטר a).

(1) הפונקציה מוגדרת כאשר המכנה אינו מתאפס.

תשובה: תחום ההגדרה: $x \neq 2$.

(2) נמצא אסימפטוטות המאונכות לצירים.

$x = 2$ מאפס שני מכנים, ולא את המונים, לכן הישר $x = 2$ אסימפטוטה אנכית.

$$\lim_{x \rightarrow \infty} \frac{2}{x-2} = \lim_{x \rightarrow \infty} \frac{2}{(x-2)^2} = 0$$

ולכן $y = a$ אסימפטוטה אופקית.

תשובה: $y = a$, $x = 2$.

(3) נמצא נקודות קיצון ונקבע את סוגן:

$$f(x) = a - \frac{2}{x-2} + \frac{1}{(x-2)^2}$$

$$f'(x) = +\frac{2}{(x-2)^2} + \frac{0-2(x-2) \cdot 1}{(x-2)^4}$$

$$f'(x) = \frac{2}{(x-2)^2} - \frac{2(x-2)}{(x-2)^4}$$

$$f'(x) = \frac{2(x-2)^2 - 2(x-2)}{(x-2)^4}$$

$$f'(x) = \frac{2(x-2)(x-2-1)}{(x-2)^4}$$

$$f'(x) = \frac{2(x-2)(x-3)}{(x-2)^4}$$

$$0 = x-3 \rightarrow x=3 \rightarrow y = a-1 \rightarrow (3, a-1)$$


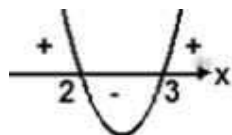
מכנה הנגזרת חיובי, בתחום ההגדרה.

מונה הנגזרת מיוצג על ידי פרבולה בעלת מינימום,

שמתאפסת עבור $x = 2$ (שאינו בתחום ההגדרה) ו- $x = 3$,

ובהתאם סוג הקיצון ותחומי עלייה וירידה.

תשובה: $(3, a-1)$, מינימום.



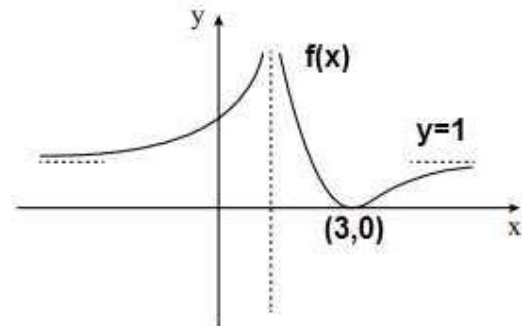
(4) תשובה: עליה: $x > 3$ או $x < 2$, ירידה: $2 < x < 3$.

ב. נתון כי גרף הפונקציה משיק לציר ה- x , כלומר בנקודת המינימום $(3, a)$, שבה שיפוע המשיק הוא אפס.

ולכן $a-1=0$ ו- $a=1$ (כי שיעור ה- y של נקודת המינימום, שעל ציר ה- x , הוא אפס).

תשובה: $a=1$.

ג. סקיצה מתאימה:



ד. נתון כי גרף הפונקציה $g(x) = |f(x) + k|$ משיק לאסימפטוטה האופקית של $f(x)$, כלומר ל $y=1$.

מכאן שהשיפוע של $g(x) = |f(x) + k|$ בנקודת ההשקה הוא אפס,

ולכן זה חייב להיות בנקודת המינימום שלה, שהיא $(3, |k|) = (3, |0+k|)$.

מכאן ש- $|k|=1$ ו- $k = \pm 1$.

תשובה: $k = \pm 1$.

- א. לגרף II יש נקודת מקסימום ב- C, כאשר גרף I עובר בנקודה זו מחיוביות לשליליות. לכן גרף II מתאים לפונקציה $f(x)$, העוברת מעלייה לירידה בנקודה זו, וגרף I מתאים לפונקציה $f'(x)$.
תשובה: גרף II - $f(x)$, גרף I - $f'(x)$.

- ב. $f'(x) = x(x+b)^3$ ($b > 1$ פרמטר). ל- $f(x)$ יש פיתול ב- $x = -1$ ולכן $f''(-1) = 0$.

$$f''(x) = (x+b)^3 + 3x(x+b)^2$$

$$f''(x) = (x+b)^2(4x+b)$$

$$0 = (x+b)^2(4x+b)$$

$$0 = x+b \rightarrow 0 = -1+b \rightarrow \cancel{b=1} \leftarrow b > 1$$

$$0 = 4x+b \rightarrow 0 = 4(-1)+b \rightarrow \boxed{b=4} \text{ o.k.}$$

תשובה: $b = 4$

- ג. הפונקציה שיש למצוא לה מקסימום היא אורך הקטע AB, בתחום $-4 < x < 1 - \sqrt{5}$.

כיוון ש- AB מאונך לציר ה- x, הרי ש- $AB = y_B - y_A = f(x) - f'(x)$.

נמצא מקסימום לפונקציה זו.

$$AB = f(x) - f'(x)$$

$$(AB)' = f'(x) - f''(x)$$

$$(AB)' = x(x+4)^3 - (x+4)^2(4x+4)$$

$$(AB)' = (x+4)^2 [x(x+4) - (4x+4)]$$

$$(AB)' = (x+4)^2 (x^2 + 4x - 4x - 4)$$

$$\boxed{(AB)' = (x+4)^2 (x^2 - 4)}$$

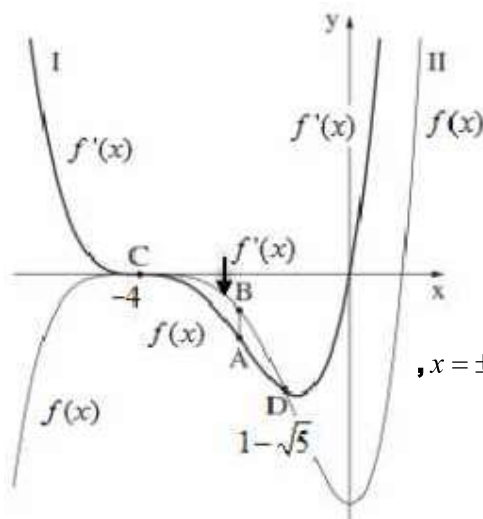
הכופל השמאלי חיובי בתחום. הכופל הימני מתאפס עבור $x = \pm 2$,

כאשר $x = -2$ בתחום.

זו נקודת מקסימום, כי $AB(-4) = AB(1 - \sqrt{5}) = 0$,

ושאר ערכי AB בתחום הינם חיוביים.

תשובה: $x_A = x_B = -2$, עבורם אורך הקטע AB הוא מקסימלי.



א. גודל השטח האפור שבציור הוא $10\pi^2 + 16$, כלומר: $S_1 + S_2 = 10\pi^2 + 16$.

$$\int_0^{2\pi} f(x) dx = 8\pi^2 \text{ נתון גם כי}$$

$$\text{כיוון } -S_1 + S_2 = 8\pi^2 \text{ מתקבל ש-}, S_1 = \int_0^{\frac{\pi}{2}} (0 - f(x)) dx$$

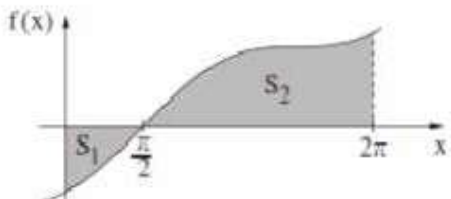
נפתור את מערכת המשוואות:

$$\begin{cases} S_1 + S_2 = 10\pi^2 + 16 \\ -S_1 + S_2 = 8\pi^2 \end{cases}$$

$$2S_1 = 2\pi^2 + 16$$

$$\boxed{S_1 = \pi^2 + 8}$$

$$\text{תשובה: } S_1 = \pi^2 + 8$$



ב. נמצא את $F(\frac{\pi}{2})$, כאשר נתון: $F(0) = 0$.

$$S_1 = \int_0^{\frac{\pi}{2}} (0 - f(x)) dx$$

$$\pi^2 + 8 = -F(\frac{\pi}{2}) + F(0)$$

$$\pi^2 + 8 = -F(\frac{\pi}{2}) + 0$$

$$\boxed{F(\frac{\pi}{2}) = -\pi^2 - 8}$$

$$\text{תשובה: } F(\frac{\pi}{2}) = -\pi^2 - 8$$

ג. נמצא את $f(x)$, כאשר נתון: $f'(x) = 8\sin x + 8$ ועל פי סעיף א מתקיים $f(\frac{\pi}{2}) = 0$.

$$f(x) = \int f'(x) dx$$

$$f(x) = \int (8\sin x + 8) dx$$

$$f(x) = -8\cos x + 8x + c$$

$$0 = -9\cos(\frac{\pi}{2}) + 8(\frac{\pi}{2}) + c \leftarrow f(\frac{\pi}{2}) = 0$$

$$0 = -9 \cdot 0 + 4\pi + c$$

$$c = -4\pi$$

$$\boxed{f(x) = -8\cos x + 8x - 4\pi}$$

$$\text{תשובה: } f(x) = -8\cos x + 8x - 4\pi$$